

소개 및 약력

여지선

약력	동국대학교 철학과·사학과 재학 現 이상 도덕·윤리 연구소 前 동국대학교 HK+ 산업연구단 연구 보조원 前 한국연구재단 일반공동연구지원 사업 연구 보조원
출판물	『슬기로운 세계사』 『이상 모의고사』 생활과 윤리·윤리와 사상 『Ethique Fatale 모의고사』 생활과 윤리·윤리와 사상
SNS	인스타그램 @1113_0818 이메일 take_273@naver.com 카페 https://cafe.naver.com/take273 슬기로운 수험생활 Q&A https://open.kakao.com/o/gERwLP1d

책 소개

수능 세계사 유형별 N제 2007학년도~2022학년도 기출 수록!

『슬기로운 세계사』 시리즈 두 번째 책은 평가원 기출 유형별 N제입니다. 2권부터는 문제 풀이 훈련에 들어갑니다. 2권에서는 킬러 문항으로 자주 등장하는 연표와 지도 유형을 집중적으로 파헤쳐 평가원 시험에 능동적으로 대비할 수 있도록 합니다. 두 유형 모두 2007학년도~2022학년도 평가원 시험의 모든 문항을 담았고, 작년과 달라진 점이 있다면 주요 학력 평가의 문항을 추가하여 더욱 풍부하게 했다는 점입니다.

2권에서는 연표 문항의 유형과 풀이 방법을 제시하여 실전 문제 풀이 능력을 배양할 수 있도록 했습니다. 또한 최근 킬러 문항으로 등장한 지도 문항은 세세한 해설을 수록하여 수험생분들께서 효과적으로 학습할 수 있도록 노력했습니다.

전체 커리큘럼

	1권	2권	3권	4권
유형	사료집	평가원 유형별 N제	연계 교재 분석	평가원 유형별 N제
출간 시기	3월 중	7~8월 중	7~8월 중	9월 중
목차	1. 중국사 2. 서양사 3. 각국사	1. 연표 2. 지도	연계 교재 분석	1. 인물 2. 문화 3. 각국사

* 알림

- ① 교재의 정오표는 시대인재북스 홈페이지 및 <슬기로운 수험생활> 카페에 업로드됩니다.
- ② 교재의 오류 사항을 제보해주신 제보자분께는 검토진 모집 시 혜택이 있습니다.
- ③ 교재의 검토진을 상시 모집하고 있습니다. 카페의 검토진 공고 글을 참고해주시기 바랍니다.
- ④ 카카오톡 오픈 채팅방에 “슬기로운 세계사 질문방”을 검색하시면 자유롭게 오셔서 세계사 관련 질문이 가능합니다.
- ⑤ 답안지(정답과 해설)는 카페에도 업로드 됩니다. 다운로드하셔서 편하게 공부하시길 권합니다.

문명


고대

1 밑줄 친 '전쟁'의 결과로 옳은 것은? 07-09-19

답장	전체답장	전달	삭제	다른 메일함으로 이동	인쇄	추가기능
제목	보고 싶은 아들, 딸에게					
보낸날짜	2006년 09월 06일 09:10					
보낸사람	0000@00000.000	주소록에 추가	수신거부	스팸신고		
받는사람	****@*****.***					

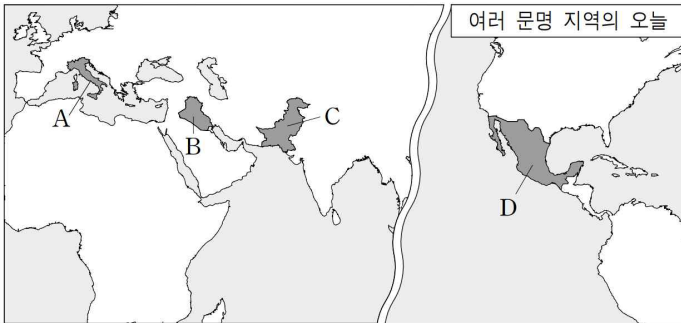
'세계의 문화를 찾아서'란 특집 기사를 쓰기 위해 집을 떠난지도 일주일이 넘었구나. 그 사이 나는 지금 취재하고 있는 지역의 유물과 유적을 찾아보기 위해 인도와 이란을 거쳐, 이라크에 와 있단다. 어제는 우리 유적지 취재를 다녀왔는데, 아직은 위험한 상태여서 여간 조심스러운 게 아니었던단다. 그동안 아빠가 취재하면서 찍은 사진을 몇 장 같이 보낸다. 같이 못 온 아쉬움을 사진으로라도 달래렴.

첨부파일	크기	다운로드
@ 사진.zip	2.5MB	다운로드



2 지도에 표시된 A~D 나라에 대한 설명으로 옳은 것을 모두 고르면? [3점]

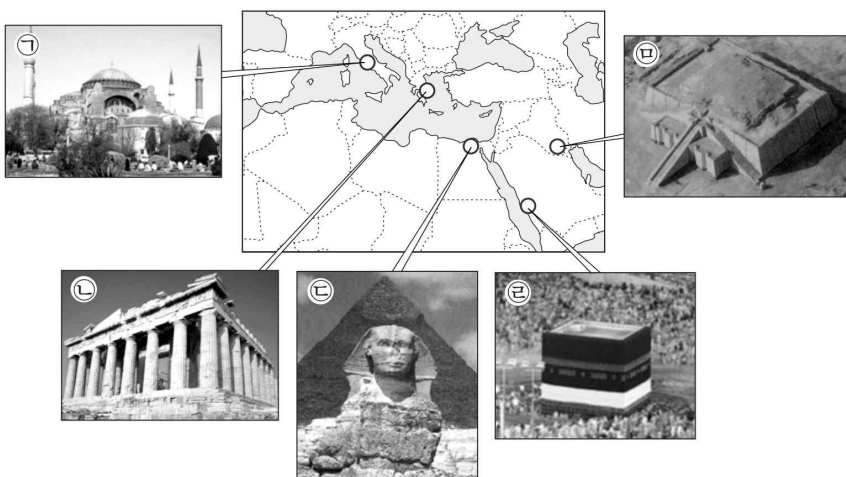
07-11-11



- ① 파르테논 신전으로 유명한 A에서 근대 올림픽이 시작되었다.
- ② 함무라비 법전의 고향인 B에는 우리나라의 자이툰 부대가 파견되어 있다.
- ③ 하라파 유적이 발굴된 C에는 현재 이슬람 교도들이 많이 살고 있다.
- ④ 잉카 문명이 번성했던 D는 에스파냐의 식민지가 되었다가 19세기에 이르러 독립하였다.

3 다음은 세계의 유적 지도이다. 유적의 위치가 잘못 표시된 것은?

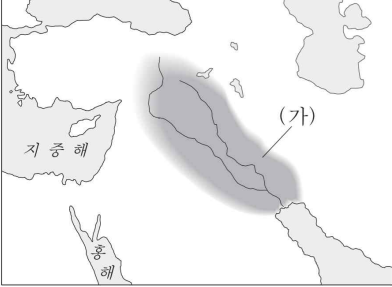
08-11-18



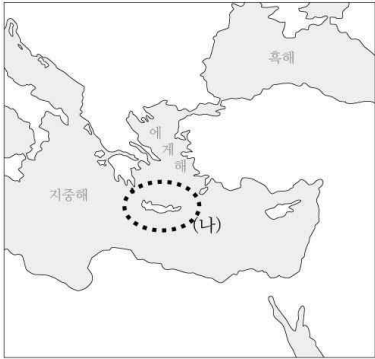
- ① ㉠
- ② ㉡
- ③ ㉢
- ④ ㉣
- ⑤ ㉤

4 (가) 혹은 (나) 지역에서 성립된 고대 문명에 대한 설명으로 옳은 것을 모두 고르면? 13-11-01 18-06-01

01 (가) 지역 13-11-01



02 (나) 지역 18-06-01



- ① 지구라트를 건설하였다. 13-11-01
- ② 파르테논 신전을 세웠다. 13-11-01
- ③ 감자와 옥수수를 재배하였다. 13-11-01
- ④ 미라를 만들고 사자의 서를 제작하였다. 13-11-01
- ⑤ 하라파와 모헨조다로를 건설하였다. 13-11-01 18-06-01
- ⑥ 갑골 문자를 사용하였다. 18-06-01
- ⑦ 함무라비 법전을 만들었다. 18-06-01
- ⑧ 크노소스 궁전을 건립하였다. 18-06-01
- ⑨ 피라미드와 �핑크스를 축조하였다. 18-06-01

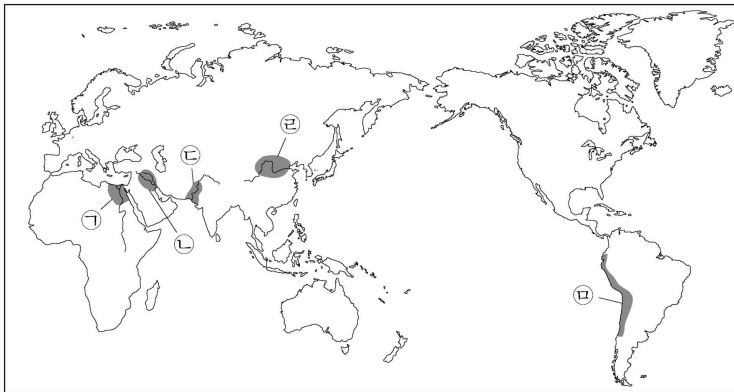
5 (가) 문명에 대한 설명으로 옳은 것은? 18-11-15



- ① 우르두어를 사용하였다.
- ② 쿠시 왕국을 정복하였다. **이전 교육과정**
- ③ 마누 법전을 편찬하였다.
- ④ 코르테스에 의해 멸망하였다.
- ⑤ 쿠스코가 중심지로 발달하였다.

6 (가) 문명의 발생 지역을 지도에서 옳게 고른 것은? 20-09-01

모헨조다로는 고대 **(가)**의 대표적인 유적지로, 크게 성채와 시가지로 구분되어 있다. 성채에는 대형 목욕탕과 창고 등이 있었고, 시가지에는 벽돌로 지은 주택들이 도로를 따라 들어서 있었다. 특히 정교한 배수 시설은 계획도시의 면모를 보여주고 있다.



- ① ㉠
- ② ㉡
- ③ ㉢
- ④ ㉣
- ⑤ ㉤





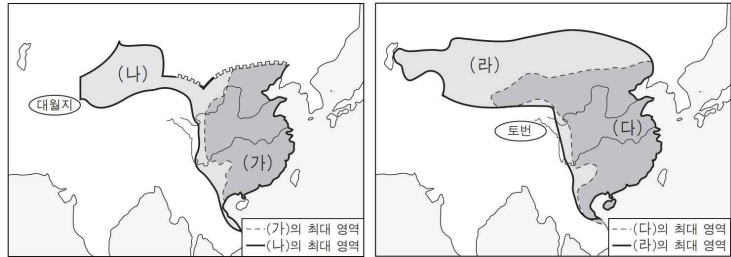
❖ **선지 출처**

- ①~④ 07-06-02
- ⑤~⑨ 07-11-09
- ⑩~⑬ 11-11-03

중국

고대 ~ 중세
춘추 전국 시대 - 당

7 지도의 (가)와 (나), (다)와 (라)는 각각 연속된 통일 왕조이다. (가)~(라)에 대한 설명이나 (가)~(라) 시기에 들 수 있었던 이야기로 옳은 것을 모두 고르면?



- ① (나)는 대운하를 완성한 후, 고구려를 침략하였다.
- ② (나)는 균수법과 평준법을 실시하여 전비를 충당하였다.
- ③ (라)는 변방 지역을 지키기 위해 절도사를 두었다.
- ④ (라)는 주변 민족의 침입을 받아 강남으로 천도하였다.
- ⑤ (가)와 (나)의 북방에는 흉노가 있었다.
- ⑥ (다)와 (라)에서는 과거제가 시행되었다.
- ⑦ (가) 시대에 서역에서 전래된 불교가 (다) 시대에 성행하였다.
- ⑧ (나) 시대에 발명된 제지술이 (라) 시대에 서역으로 전해졌다.
- ⑨ (가)와 (다)에는 대규모 토목 공사의 폐해가, (나)와 (라)에는 환관의 폐해가 있었다.
- ⑩ (라) - 대규모의 원강 석굴 사원 건설이 시작되었다는군.
- ⑪ (라) - 내년에는 부병제로 인한 나의 군역 기간이 끝난다네.
- ⑫ (라) - 올해 부담해야 할 조·용·조 때문에 벌써부터 걱정이야.
- ⑬ (라) - 장안에 가면 세계 각지에서 온 외국인들을 볼 수 있을 거야.

〈세계사 수행 평가 과제〉 13-11-10

- 주제 : 현장 법사와 그 시대
- 모둠별 과제
 - 1모둠 : 현장 법사의 일생 조사하기
 - 2모둠 : 현장이 활약한 시기 중국의 상황 알아보기
 - 3모둠 : 현장 법사가 집필한 '대당 서역기' 11-11-03

⑭ (라) -

8 다음은 어느 고등학교의 세계사 학습지이다. 탐구 과제를 수행한 결과로 옳은 것을 모두 고르면?

08-09-19

세계사 학습지 ○○고등학교

분열 시대 중국의 문화

【탐구 과제】
(가)와 (나)에서 발달한 문화의 내용과 특징을 비교해 보자.

원강 석굴 사원 불상

평양

가

전남

나

도연명

- ① (가) - 북방 민족의 강인하고 소박한 문화가 발달하였다.
- ② (가) - 고유 문자를 만들어 자신의 문화를 지키려고 하였다.
- ③ (나) - 현실 도피적인 청담 사상이 유행하였다.
- ④ (나) - 개인주의와 향락을 추구하는 경향이 강하였다.
- ⑤ (가), (나) - 불교가 융성하여 많은 사찰이 세워졌다.

9 다음 자료와 관련된 설명으로 옳은 것을 모두 고르면?

01 08-11-10

대왕의 위나라는 남으로는 초, 서로는 한, 북으로는 조, 동으로는 제와 국경을 접하고 있어 사방을 지키는 병사만도 10만 이상이나 필요합니다. ...**(중략)**... 대왕께서 진을 섬기지 않으시면 위는 당장 망할 것입니다.

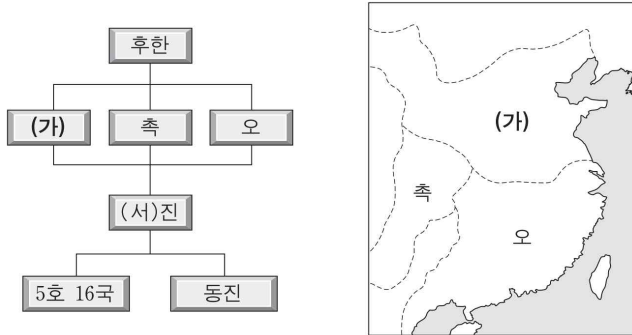
- 「장의 열전」 -

02 16-06-02

이 시대는 주나라가 수도를 낙읍(뤄양)으로 옮기면서 시작되었습니다. 이 시대의 특징에 대해 말해 볼까요?

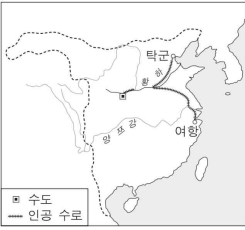
- ① 균수법과 평준법으로 국가 재정을 확충하였다. 08-11-10
- ② 나라와 신분을 가리지 않고 인재를 등용하였다. 08-11-10
- ③ 남북 간 물자 교류를 위해 대운하를 개통하였다. 08-11-10
- ④ 향촌 조직을 정비하기 위해 이갑제를 실시하였다. 08-11-10
- ⑤ 농민에게 토지를 나누어 주고 조·용·조를 거두었다. 08-11-10
- ⑥ 제자백가가 출현하였습니다. 16-06-02
- ⑦ 철제 농기구가 보급되었습니다. 16-06-02
- ⑧ 맹안·모곡제가 실시되었습니다. 16-06-02
- ⑨ 황제 지배 체제가 수립되었습니다. 16-06-02

10 다음 자료의 (가) 나라에 대한 설명으로 옳은 것은? [3점] 08-11-12



- ① 역참을 설치하고 동서 교통로를 정비하였다.
- ② 봉건제와 군현제를 절충한 군국제를 실시하였다.
- ③ 절도사를 폐지하고 황제에게 권력을 집중시켰다.
- ④ 잡다한 세금을 지세와 정세로 정리하고 은으로 거두었다.
- ⑤ 9품중정제를 실시하여 각 지방의 인재를 관리로 임명하였다.

11 다음 자료에 나타난 시기에 인공 수로를 이용하였을 사례로 가장 적절한 것은? [3점] 11-06-07

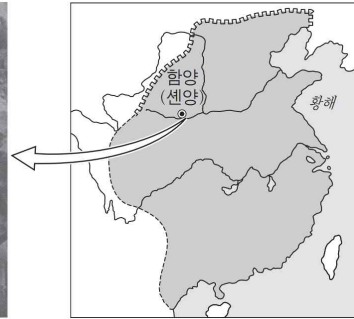



이전 시대에 부분적으로 건설되었던 수로를 연결하거나 새로운 물길을 파서 총 길이 약 1,800km의 인공 수로를 완성하였다. 황제가 남쪽 지방의 별궁에 갈 때 이 수로를 이용하기도 하였다.

- ① 감합 무역을 하는 일본 선박의 운항
- ② 고구려 침략을 위한 군수 물자의 수송
- ③ 영국 왕의 사절 매카트니의 중국 여행
- ④ 산시·신안 상인 등의 전국적 상업 활동
- ⑤ 황건적의 난을 진압하기 위한 군대의 이동

12 다음 지도와 관련된 황제에 대한 탐구 활동으로 가장 적절한 것은?

13-06-09




- ① 흉노와의 대립을 살펴본다.
- ② 왜구에 대한 대책을 조사한다.
- ③ 탈라스 전투의 영향에 대해서 알아본다.
- ④ 돌궐을 복속시키는 과정에 대해서 알아본다.
- ⑤ 화교의 동남 아시아 진출 배경에 대해서 정리한다.

근세

송 / 요 / 금 / 원 / 명 / 청

13 다음 자료에 대한 설명으로 옳은 것은? [3점] 13-11-16

01 왕조 08-11-13



— 왕조 전성기의 국경
- - - 현재 중국의 국경

양쯔강 (가)

이른 아침부터 서산에 해질 때까지 면포를 짜네.
면포 두 필 겨우 짜니 닭들이 마구 울어 대는구나.
반은 소작료 내고 반은 쌀을 사려 했는데,
시장의 면포가 할값 된 걸 몰랐구나.
- 농민 생활을 읊는 노래 -

선택지 출처

①~⑤ 08-11-13

⑥~⑨ 13-11-16

02 밑줄 친 '이 나라' 13-11-16



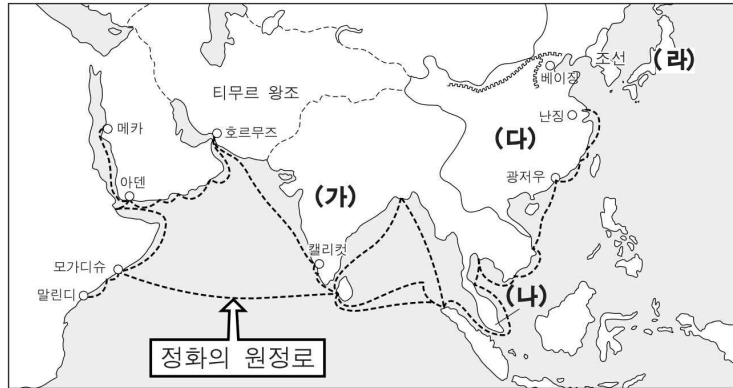
네르친스크

이 나라는 남쪽에서 삼번의 난을 진압하고 타이완을 복속시켰다. 그리고 북쪽에서는 네르친스크에서 조약을 체결하여 러시아의 남하를 막아내고 국경을 확정하였다.

- ① 문치주의 정책으로 군사력이 약화되었다.
- ② 교초가 남발되어 심각한 인플레이션이 일어났다.
- ③ 외척과 환관의 권력 투쟁으로 나라가 어지러워졌다.
- ④ 정화의 함대를 보내어 여러 차례의 해외 원정을 수행하였다.
- ⑤ 네르친스크 조약과 카흐타 조약으로 러시아와 국경을 정하였다.
- ⑥ 일본과 감함 무역을 실시하였다.
- ⑦ 광저우에 공행을 두어 외국과의 무역을 통제하였다.
- ⑧ 프랑스와의 전쟁으로 베트남에 대한 종주권을 상실하였다.
- ⑨ 해외 원정을 통해 동남아시아로 화교가 진출하는 계기를 마련하였다.

14 지도에 해당하는 시기의 (가)~(라) 국가에 대한 옳은 설명을 <보기>에서 고른 것은? [3점]

09-09-13




<보 기>

- ㄱ. (가) - 무굴 제국의 영토가 최대로 확장되었다.
- ㄴ. (나) - 이슬람교를 믿는 므라카 왕국이 번영하였다.
- ㄷ. (다) - 수도를 난징에서 베이징으로 옮겼다.
- ㄹ. (라) - 도쿠가와 이에야스가 에도 막부를 열었다.

- ① ㄱ, ㄴ ② ㄱ, ㄷ ③ ㄴ, ㄷ ④ ㄴ, ㄹ ⑤ ㄷ, ㄹ

15 다음 자료에 대한 설명으로 옳은 것을 모두 고르면?

01 (가) 국가, (나) 상황 09-09-15



돌이켜보건대 안으로는 국가가 위태롭고, (나)밖으로는 오랑캐의 위협이 걱정됩니다. 천하의 재력은 나날이 곤궁하고 기강도 해이해지고 있습니다. 사방의 뜻있는 선비들은 천하가 오랫동안 불안한 것을 늘 근심하고 있습니다.

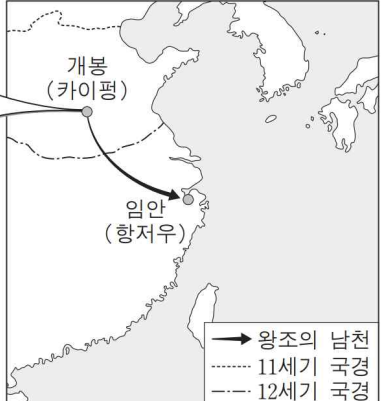
선지 출처

①~⑤ 09-09-15

⑥~⑩ 11-09-13

02 자료와 관련된 (다) 국가 11-09-03

새벽 4시, 절의 목어 소리와 종소리가 새벽을 알리면 하루가 시작된다. 성문이 열리고 시장이 서면 행상인들은 수레를 끌고 먹을거리를 소리 높여 팔러 돌아다니고, 성 밖에서는 고기나 과일을 실은 마차가 줄줄이 시장으로 들어온다. 이러한 광경은 깊은 밤까지 계속되었다.



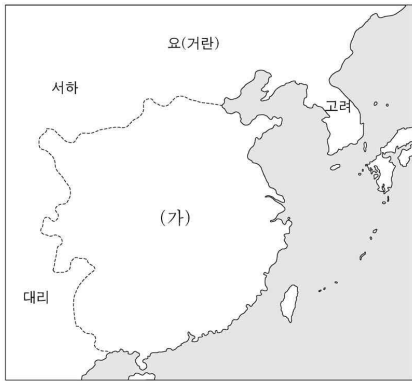
- ① (가) 국가의 (나)에 대한 대책 : 병농 일치적 성격의 보갑법을 실시하였다.
- ② (가) 국가의 (나)에 대한 대책 : 납세 항목을 단일화하여 은으로 내게 하였다.
- ③ (가) 국가의 (나)에 대한 대책 : 팔기군을 조직하여 변경의 방어를 강화하였다.
- ④ (가) 국가의 (나)에 대한 대책 : 맹안·모곡제를 실시하여 군사력 강화를 꾀하였다.
- ⑤ (가) 국가의 (나)에 대한 대책 : 국가로부터 토지를 지급받는 자들을 부병으로 삼았다.
- ⑥ (다) - 동전과 함께 교자 등의 지폐가 사용되었다.
- ⑦ (다) - 바닷길을 통한 이슬람과의 교류가 활발하였다.
- ⑧ (다) - 지주가 소유한 토지는 전호에 의해 경작되었다.
- ⑨ (다) - 행, 작 등 상공업자들의 동업 조합이 결성되었다.
- ⑩ (다) - 창장강 중·상류 지역이 쌀 주산지로 성장하였다.

16 (가)~(다) 왕조에 대한 설명으로 옳은 것을 모두 고르면?

01 (가), (나) 왕조 13-06-17

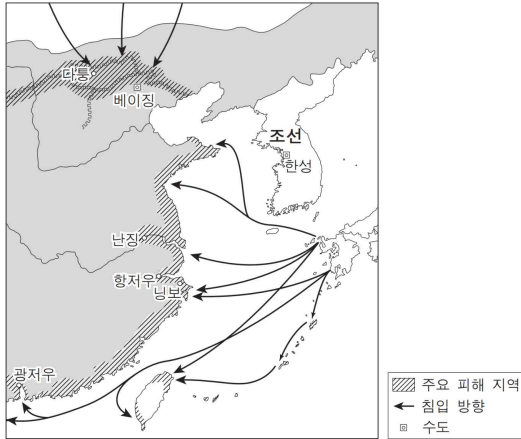


02 (다) 왕조 19-09-10



- ① (가) - 파스파 문자를 제정하였다. 13-06-17
- ② (가) - 남면관·북면관 제도를 시행하였다. 13-06-17
- ③ (나) - 신사가 사회의 지배층을 이루었다. 13-06-17
- ④ (나) - 산업의 발전을 위해 천공개물을 편찬하였다. 13-06-17
- ⑤ (가), (나) - 몽골족에 의해 멸망하였다. 13-06-17
- ⑥ (다) - 군기처가 설치되었다. 19-09-10
- ⑦ (다) - 수시력이 편찬되었다. 19-09-10
- ⑧ (다) - 일조편법이 채택되었다. 19-09-10
- ⑨ (다) - 9품중정제가 실시되었다. 19-09-10
- ⑩ (다) - 왕안석의 신법이 시행되었다. 19-09-10

17 지도는 어느 시기 외적의 침입 상황을 보여준다. 이에 대해 학생들이 토론한 내용으로 적절한 것을 모두 고르면? 13-09-11

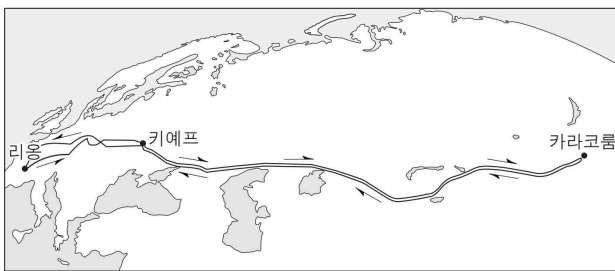


〈보기〉

- ㄱ. 갑 : 장거정이 개혁을 추진하는 배경이 되었어.
- ㄴ. 을 : 국방비가 증가하면서 국가 재정이 궁핍해졌어.
- ㄷ. 병 : 조정은 부족한 재정을 보충하려고 교초를 남발하였어.
- ㄹ. 정 : 이 상황은 몽골 풍습과 중국인의 해외 진출을 금지하면서 진정되었어.

- ① ㄱ, ㄴ ② ㄱ, ㄷ ③ ㄴ, ㄷ ④ ㄴ, ㄹ ⑤ ㄷ, ㄹ

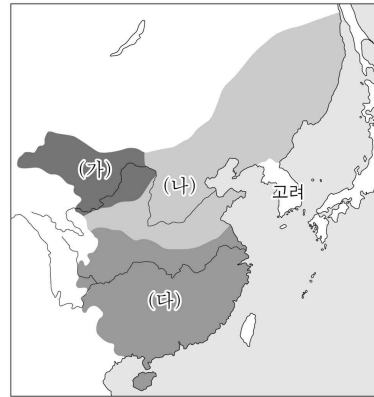
18 밑줄 친 '이 제국'에서 있었던 사실로 옳은 것은? [3점] 17-06-11



교황 인노켄티우스 4세는 이 제국의 유럽 침입을 저지하고 크리스티교를 선교할 목적으로 프란체스코회 수도사 카르피니를 사절로 파견하였다. 카르피니는 리움을 출발하여 카라코룸 부근에 도착하였다. 그곳에서 이 제국의 새로운 대칸의 즉위식에 참석하였다. 그 후 교황의 복종을 요구하는 대칸의 편지를 들고 돌아왔다.

- ① 주요 도로에 역참이 설치되었다.
- ② 전례 문제로 서양 선교사가 추방되었다.
- ③ 아담 샬이 서양의 과학 지식을 소개하였다.
- ④ 마테오 리치가 곤여만국전도를 제작하였다.
- ⑤ 현장이 인도를 순례하고 불교 경전을 들여왔다.

19 (가)~(다) 왕조에 대한 설명으로 옳은 것은? [3점] 22-06-02



- ① (가) - 팔기제를 운영하였다.
- ② (나) - 탕구트족이 세웠다.
- ③ (다) - 9품중정제를 시행하였다.
- ④ (가), (나) - 고유 문자를 제작하였다.
- ⑤ (나), (다) - 전연의 맹약을 체결하였다.

20 교사의 질문에 대한 학생의 답변으로 가장 적절한 것은? 22-09-02



- ① 재상제를 폐지하였습니다.
- ② 흉건적의 난을 평정하였습니다.
- ③ 베이징을 공격하여 점령하였습니다.
- ④ 팔기제를 바탕으로 여진족을 통합하였습니다.
- ⑤ 반청 세력인 타이완의 정씨 집단을 제압하였습니다.

근현대 민족 운동

21 다음 자료의 (가)와 관련된 운동을 설명한 것으로 옳은 것은?

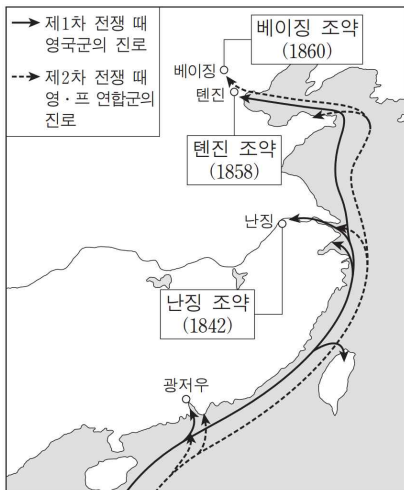
07-11-15



- ① 토지의 균등한 분배를 주장하였다.
- ② 철도 국유화 문제가 배경이 되었다.
- ③ 전국적인 대중 운동으로 발전하였다.
- ④ 서태후 등 보수파의 쿠데타로 실패하였다.
- ⑤ 태평천국을 진압한 한인 관료가 중심이 되었다.

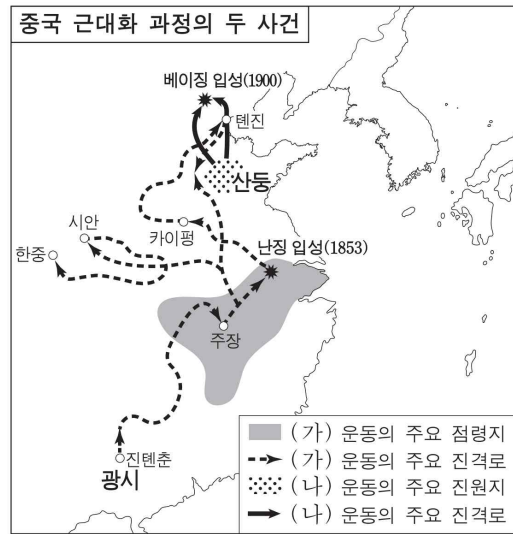
22 지도에 나타난 전쟁에 대한 탐구 활동으로 가장 적절한 것은?

16-06-16



- ① 러시아와 체결한 카흐타 조약의 내용을 확인한다.
- ② 과거제가 폐지되고 신군이 창설된 계기를 조사한다.
- ③ 한족 관료들이 군수 공업을 일으키게 된 원인을 찾아본다.
- ④ 전국의 여러 성들이 차례로 독립을 선언한 이유를 알아본다.
- ⑤ 쓰촨에서 일어난 철도 국유화 반대 운동의 경과를 살펴본다.

23 (가), (나) 운동에 대한 설명으로 옳은 것은? 18-06-19



- ① (가) - 금릉 기기국 등의 군수 공장을 건설하였다.
- ② (가) - 만주족 배경과 한족 국가 부흥을 주장하였다.
- ③ (나) - 한족 중심의 공화국 건설을 목표로 하였다.
- ④ (나) - 과거제 폐지, 신교육 실시 등 개혁을 추진하였다.
- ⑤ (가), (나) - 부청멸양의 구호 아래 외세를 배척하였다.

도시

24 다음 자료에 나타난 도시와 관련 있는 설명으로 옳은 것을 모두 고르면?

01 (가) 도시 15-09-08

송의 윤세가 기울면서 북방 오랑캐 원이 중국에 들어와 주인이 되니 천하에 복종하지 않는 나라가 없었다. 나는 본래 평민 출신이었으나, 천하가 크게 어지러워지자 백성들의 추대를 받아 (가)을/를 도읍으로 정하고 새 왕조를 열었다. 이제 군대를 보내 오랑캐를 북으로 몰아냄으로써 백성을 도탄에서 구하고 중화의 치욕을 씻고자 한다.

02 이 도시 21-11-20

- ❖ 선택 출처
- ①~④ 15-09-08
 - ⑤~⑦ 11-09-13
 - ⑧ ⑨ 07-09-16 21-11-20

- ① 역사 다큐멘터리 주제 : 청명상하도, 명화 속의 도시를 걷다.
- ② 역사 다큐멘터리 주제 : 동진의 수도, 귀족 문화를 꽃피우다.
- ③ 역사 다큐멘터리 주제 : 시박사, 해상 무역의 거점을 돌아보다.
- ④ 역사 다큐멘터리 주제 : 홍수전이 꿈꾼 세상, 태평천국의 중심을 가다.
- ⑤ 이 도시에서 장쉐량이 장제스를 감금하였어요.
- ⑥ 이 도시에서 쑨원이 임시 대통령에 취임하였어요.
- ⑦ 이 도시는 제1차 아편 전쟁의 결과로 개항되었어요.
- ⑧ 이 도시에서 신해혁명을 촉발한 신군 봉기가 처음 일어났어요.
- ⑨ 이 도시에서 교회와 철도 등 서양 문물을 반대하는 의화단과 8개국 연합군이 충돌하였어요.

25 이 시대의 (가) 지역에 대한 옳은 설명을 모두 고르면? [3점]

08-11-14



이른 아침부터 서산에 해질 때까지 면포를 짜네.
면포 두 필 겨우 짜니 닭들이 마구 울어 대는구나.
반은 소작료 내고 반은 쌀을 사려 했는데,
시장의 면포가 할값 된 걸 몰랐구나.
- 농민 생활을 읊는 노래 -

〈보기〉

- ㉠. 밀무역이 성행하고 왜구의 침입과 약탈이 잦았다.
- ㉡. 뽕나무와 면화 등 상품 작물의 재배가 활발하였다.
- ㉢. 수공업 생산의 중심지였으며 상공업 도시가 발달하였다.
- ㉣. 쌀농사의 중심지로서 대량의 쌀을 다른 지역에 공급하였다.

- ① ㉠, ㉡ ② ㉠, ㉢ ③ ㉡, ㉢ ④ ㉡, ㉣ ⑤ ㉢, ㉣

26 다음 (가) 지역과 관련된 역사적 사실로 가장 적절한 것은? [3점]

09-11-17

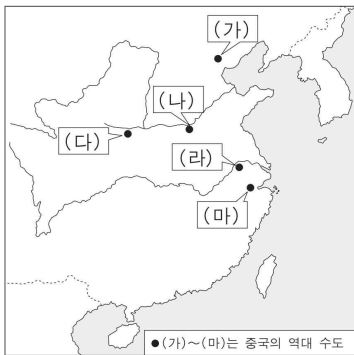
		(가) 지역의 중심 도시(○○/△△/◇◇)
일차	도시	여행지 안내
1일	○○	• 악비 묘 : 금의 침략에 쫓긴 조정은 이곳 임안을 수도로 삼았다. 악비는 왕조를 위해 영웅적으로 싸웠으나 모함을 받아 죽은 인물이다.
2일	△△	• 호구(虎丘) : 오(吳)왕 합려가 묻혀 있다고 전해지는 곳이다. • 실크 쇼핑센터 : 명·청 시대에 면포와 비단 가내 수공업의 중심이었던 이 지역의 비단 상품을 구경한다.
3일	◇◇	• 옛 조계지 : 난징 조약으로 개항된 이후 세워진 서양식 건물들이 많은 곳으로 야경이 환상적이다.

- ① 은의 중심지로서 은허가 발굴되었다.
- ② 위·진 시대에 이민족(5호)이 들어와 16국을 수립하였다.
- ③ 당은 이 지역에 수도를 건설하고 계획 도시로 만들었다.
- ④ 송대에 넓은 저습지가 논으로 개발되면서 경제의 중심지로 성장하였다.
- ⑤ 청은 이 지역의 한 도시를 무역항으로 개방하고 공행을 설치하였다.

27 다음 답사 계획서의 방문지로 옳은 것을 지도에서 고른 것은? [3점]

10-06-20

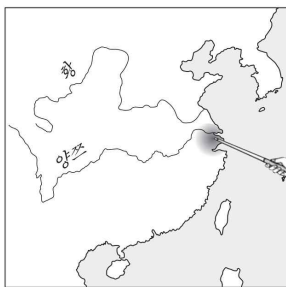
○○와(과) 주변 지역의 역사 유적 답사	
일정	답사 내용
1일	주구점 유인원 박물관 : 약 50만년 전에 출현했던 인류의 두개골 화석을 관람하며 호모 에렉투스의 출현 과정을 이해한다.
2일	만리장성 : 팔달령 장성 등을 돌아보며 북방의 유목 민족과 남방의 한족이 충돌하고 융합했던 중국 문명의 특징을 이해한다.
3일	자금성 : 황제가 집무를 보고 거주하던 궁전을 돌아보며 황제 권력의 강력함을 느껴본다. 주변의 이화원도 함께 관람한다.



- ① (가)
- ② (나)
- ③ (다)
- ④ (라)
- ⑤ (마)

28 다음 자료에 나타난 시기에 밀줄 친 ‘이 지역’의 사람들이 주고받았을 말로 적절하지 않은 것은?

12-06-15



당시 대표적인 곡창 지대였던 이 지역에 풍년이 들면 천하가 먹고 살기에 풍족하다는 말이 있을 정도였어요.

- ① 오늘 상인 조합 회의가 있습니다.
- ② 올해는 옥수수 농사가 잘 되었다지.
- ③ 잡극 공연이 큰 인기를 끌고 있어요.
- ④ 석탄 덕분에 질 좋은 자기를 만들었어.
- ⑤ 신품종인 참파벼가 유행하고 있다는군.

29 (가) 지역에 대한 설명으로 옳은 것은? 12-09-17

01 (가) 도시	12-09-17
<p>○ 이다지도 정의롭지 못하며 수치스러운 전쟁을 나는 여태껏 알지 못하고, 또 읽은 적도 없다. 지금 나와 다른 의견을 가진 분이 [(가)]에서 영광스럽게 펼쳐이는 국기에 대해 말씀하셨다. 그러나 그 국기는 추악하기 그지없는 금지 물품인 아편의 밀수를 보호하기 위해 걸려 있을 뿐이다.</p> <p style="text-align: right;">- 영국 의회에서 행한 글래드스톤의 연설 -</p> <p>○ 제3조 청국 황제 폐하는 영국 군주에게 홍콩을 넘겨주어, 영국 군주가 적당하다고 인정하는 법률로써 통치하는 것을 인정한다.</p> <p>제4조 청국 황제 폐하는 1839년 3월 영국 신민이 [(가)]에서 몰수당한 아편의 배상금으로서 양은(洋銀) 60만 달러를 지불할 것을 약속한다.</p> <p style="text-align: right;">- ○○조약 -</p>	

02 (가) 도시	15-06-11
<p>○ 우리 황제께서는 변방의 나라를 우대하여 무역을 허락하셨습니다. 당신들이 우리의 물건을 가지고 가서 팔면 세 배의 이익을 얻을 수 있는데, 굳이 남을 해치는 물건을 몰래 팔아 욕심을 채우려고 합니다. 그래서 황제께서는 나라를 [(가)]에 파견해서 밀무역을 금지하도록 하셨습니다. 나는 이를 철저히 금지하면서도, 연해 지역에서 전쟁이 일어날 위험도 피할 것입니다.</p> <p style="text-align: right;">- 「영국 국왕에게 보내려 한 격문 원고」 (1839) -</p> <p>○ 우리 영국의 외무 장관은 이 불공정한 무역을 정당화하고 있습니다. 원인을 놓고 볼 때 이 전쟁보다 더 우리 나라를 치욕스럽게 만든 경우는 없었습니다. 저 건너편의 존경스러운 신사 분께서는 [(가)]에서 자랑스럽게 펼쳐이고 있는 영국 국기를 이야기하셨습니다. 그것은 파렴치한 밀무역을 보호하기 위해 계양되어 있습니다. - 「글래드스톤의 의회 발언」 (1840) -</p>	

- ① 대운하의 출발점으로 남송의 수도였다. 12-09-17
- ② 중·일 전쟁 때 일본군이 대학살을 자행하였다. 12-09-17
- ③ 러시아에 연해주를 할양하게 된 조약이 체결되었다. 12-09-17
- ④ 명·청 시대 견직물업의 중심지로서 직용의 변이 일어났다. 12-09-17
- ⑤ 태평천국의 수도가 되었다. 15-06-11
- ⑥ 공행을 통한 대외 무역의 거점이었다. 12-09-17 15-06-11
- ⑦ 러·일 전쟁으로 일본에게 할양되었다. 15-06-11
- ⑧ 신군의 봉기로 신해혁명이 시작된 곳이다. 15-06-11
- ⑨ 청·일 전쟁의 전후 처리를 위한 조약이 체결된 곳이다. 15-06-11



서양

고대

30 다음 자료의 (가) 국가에 관한 설명으로 옳은 것은? [3점] 07-11-02

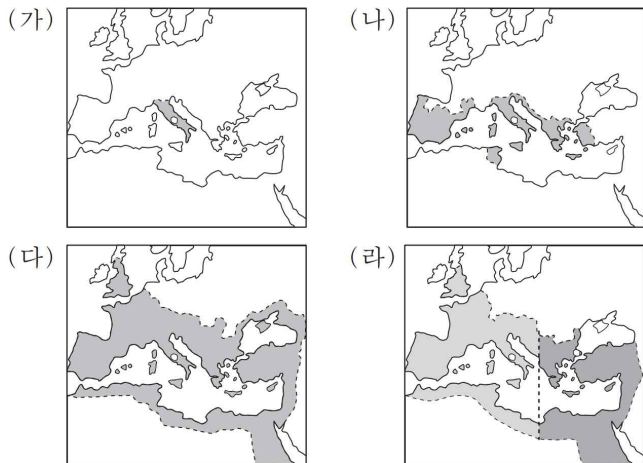
---> 기원전 490년의 진군로
-> 기원전 480년의 진군로

지금 아테네 인들은 역사상 가장 큰 위험에 처했습니다. 만약 아테네인들이 (가)에 굴복한다면 ... (중략) ... 어떤 일을 겪을지 분명하기 때문입니다.

- 헤로도토스, 『역사』 -

- ① 로마 제국 말기에 서유럽으로 들어와 나라를 세웠다.
- ② 황제권이 강하여 황제가 교회의 우두머리를 겸하였다.
- ③ 카르타고 등의 식민 도시를 건설하고 표음 문자를 사용하였다.
- ④ 조로아스터교를 믿었으며 알렉산드로스 대왕에게 멸망하였다.
- ⑤ 자유로운 시민 생활을 바탕으로 인간 중심적 문화를 발전시켰다.

31 지도는 로마의 팽창을 보여준다. (가)~(라) 시기에 대한 옳은 설명을 모두 고르면? 09-09-08

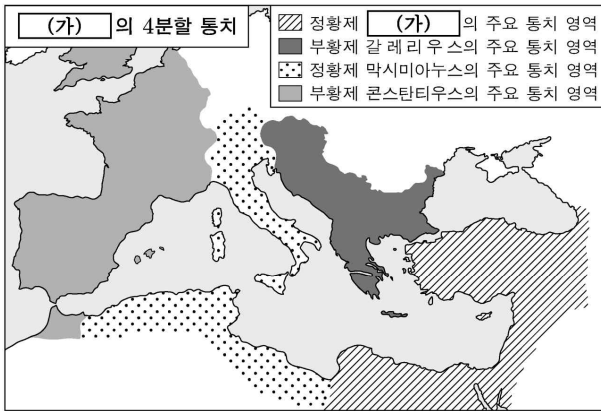


〈보 기〉

- ㄱ. (가) - 그라쿠스 형제가 개혁 정치를 시도하였다.
- ㄴ. (나) - 외침에 대비하여 군관구와 둔전병제를 실시하였다.
- ㄷ. (다) - 오현제의 치세 아래 '로마의 평화'를 누렸다.
- ㄹ. (라) - 제국이 분열될 무렵 크리스티교는 국교가 되었다.

- ① ㄱ, ㄴ
- ② ㄱ, ㄷ
- ③ ㄴ, ㄷ
- ④ ㄴ, ㄹ
- ⑤ ㄷ, ㄹ

32 (가) 황제에 대한 탐구 활동으로 가장 적절한 것은? 19-06-02



- ① 델로스 동맹이 결성된 배경을 파악한다.
- ② 스파르타쿠스의 난이 전개된 과정을 찾아본다.
- ③ 비잔티움 제국의 멸망이 끼친 영향을 분석한다.
- ④ 로마-카르타고 전쟁이 발발한 원인을 살펴본다.
- ⑤ 군인 황제 시대의 혼란이 수습된 과정을 조사한다.

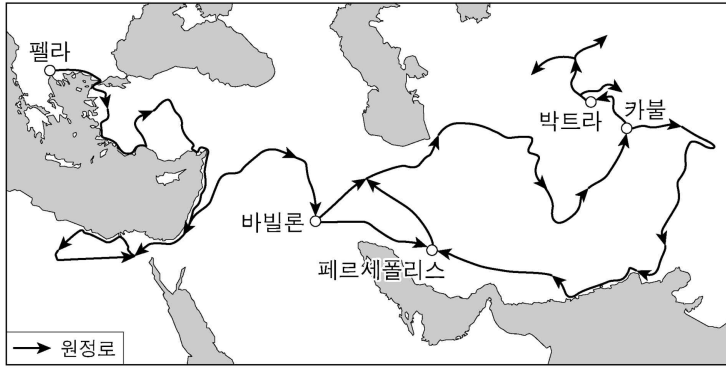
33 (가)에 대한 설명으로 옳은 것을 모두 고르면?

01 (가) 국가 16-09-09

02 (가) 도시 18-11-06

- ① 델로스 동맹의 맹주였다. 16-09-09
- ② 게르만족의 침입으로 멸망하였다. 16-09-09
- ③ 지중해를 무대로 해상 무역을 하였다. 16-09-09
- ④ 훈족의 압박을 받아 남쪽으로 이동하였다. 16-09-09
- ⑤ 알렉산드로스 대왕에게 정복당하였다. 16-09-09 18-11-06
- ⑥ 반달 왕국에 점령당하였다. 18-11-06
- ⑦ 사산 왕조 페르시아에 편입되었다. 18-11-06
- ⑧ 수사에서 시작된 '왕의 길'의 종착지였다. 18-11-06
- ⑨ 옥타비아누스가 이집트를 멸망시킨 전투가 벌어졌다. 18-11-06

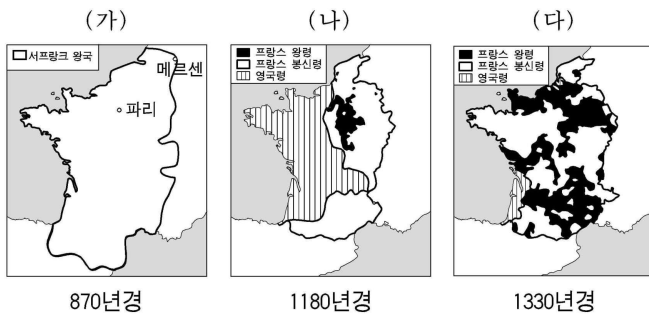
34 다음 원정이 이루어진 시기를 연표에서 옳게 고른 것은? 21-09-03



	(가)	(나)	(다)	(라)	(마)
	로마 공화정 수립	마라톤 전투	펠로폰네소스 전쟁 발발	제2차 포에니 전쟁 발발	티베리우스 그라쿠스의 개혁
① (가)	② (나)	③ (다)	④ (라)	⑤ (마)	

중세

35 지도에 나타난 각 시기에 대한 설명으로 옳은 것은? [3점] 07-06-13



- ① (가) 시기는 카롤루스 르네상스의 전성기였다.
- ② (나) 시기의 프랑스는 지방 분권적인 경향이 뚜렷하였다.
- ③ (다) 시기에 이르러 영국의 존 왕은 대헌장에 서명하였다.
- ④ (가)와 (나) 시기 사이에 프랑스에서는 삼부회가 설립되었다.
- ⑤ (나)와 (다) 시기에 영국에서는 장미 전쟁이 일어났다.

36 (가)~(라) 민족에 대한 설명으로 옳은 것을 모두 고르면?

01 (가), (나) 10-09-14

02 (다) 민족 11-06-02

〈게르만 족의 이동〉

(가)는 중세 유럽 역사에서 주도적인 역할을 하였습니다.

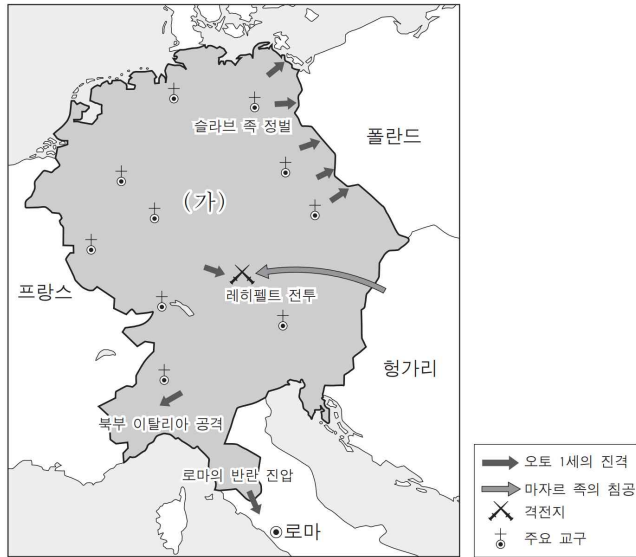
03 (라) 민족 12-11-02

- ① (가) 인구 이동의 결과 : 게르만족이 유럽사의 주역으로 부상하였다.
- ② (가) 인구 이동의 결과 : 시칠리아와 남부 이탈리아에 나폴리 왕국이 건설되었다.
- ③ (나) 인구 이동의 결과 : 16국이 건설되었으나 대부분 단명하였다.
- ④ (나) 인구 이동의 결과 : 한족이 남쪽으로 이동하여 강남 개발이 진척되었다.
- ⑤ (가)로 인해 서로마 제국이, (나)로 인해 서진이 멸망하였다.
- ⑥ (다) - 황제가 교회의 수장을 겸하였다.
- ⑦ (다) - 공화정의 위기로 삼두 정치가 등장하였다.
- ⑧ (다) - 서로마 황제가 된 카롤루스 대제 때 전성기를 맞이하였다.
- ⑨ (다) - 가톨릭(아타나시우스파)을 수용함으로써 로마 인들과 융합하였다.
- ⑩ (라) - 에게(미케네) 문명을 멸망시켰다.
- ⑪ (라) - 사산 왕조 페르시아와 이집트를 정복하였다.
- ⑫ (라) - 포에니 전쟁에서 승리하여 서지중해를 장악하였다.
- ⑬ (라) - 정복지 곳곳에 알렉산드리아라는 도시를 건설하였다.
- ⑭ (라) - 바이킹이라고도 불리며 키예프 공국 등을 건설하였다.

❖ 선지 출처

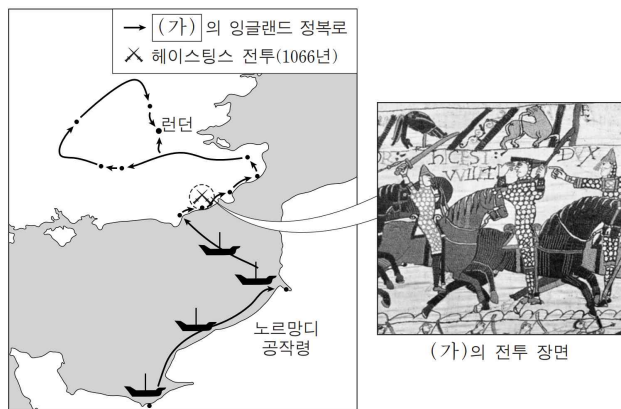
- ①~⑤ 10-09-14
- ⑥~⑨ 11-09-02
- ⑩~⑭ 12-11-02

37 지도는 (가) 나라가 세워질 무렵의 상황을 보여준다. (가)에 대한 설명으로 가장 적절한 것은? [3점] 13-09-06



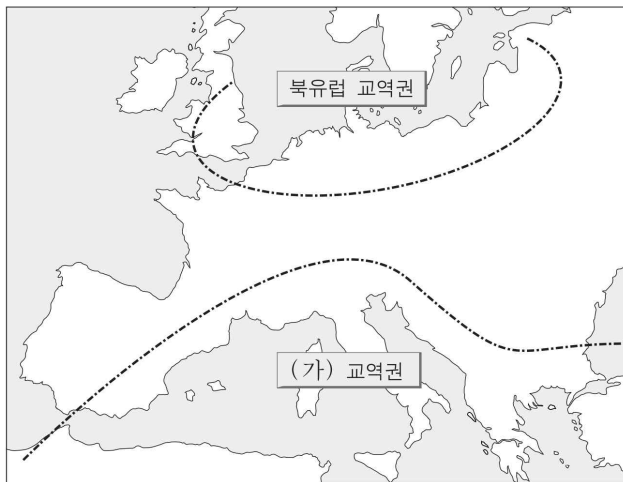
- ① 크리스티교도들의 국토 재정복 운동이 일어났다.
- ② 성직자 과세 문제를 해결하기 위한 삼부회가 소집되었다.
- ③ 국왕이 신분제 의회의 기틀이 된 모범 의회를 소집하였다.
- ④ 제후들이 독립된 권력을 행사하는 영방 국가로 발전하였다.
- ⑤ 국왕이 중앙 집권 정책에 반대하는 귀족들을 대거 숙청하였다.

38 (가) 인물에 대한 설명으로 옳은 것은? [3점] 14-06-10



- ① 카페 왕조를 개창하였다.
- ② 대헌장(마그나 카르타)을 승인하였다.
- ③ 투르·푸아티에 전투에서 이슬람군을 격퇴하였다.
- ④ 전국적인 토지 조사를 실시하여 덤스데이 북을 만들었다.
- ⑤ 마자르족의 침입을 막아 내고 이탈리아 내란을 진압하였다.

39 (가) 교역권에 대한 설명으로 옳은 것을 모두 고르면? 15-09-11



〈보 기〉

- ㄱ. 대규모 정기시가 상파뉴 지역에 열렸다.
- ㄴ. 향신료가 중요한 거래 품목 중 하나였다.
- ㄷ. 십자군 전쟁을 계기로 교역이 번성하였다.
- ㄹ. 여러 도시들이 참여해 한자 동맹을 결성하였다.

- ① ㄱ, ㄴ ② ㄱ, ㄷ ③ ㄴ, ㄷ ④ ㄴ, ㄹ ⑤ ㄷ, ㄹ

◆ 선지 출처

- ①~⑤ 16-11-10
- ⑥ 08-09-16
- ⑦ 08-09-16 17-09-08
- ⑧~⑩ 08-09-16
- ⑪~⑭ 17-09-08

40 (가), (나) 국가에 대한 설명으로 옳은 것을 모두 고르면?

01 (가) 국가 16-11-10

(가) 황제 즉위 시 영토
 (가) 황제의 정복지

02 (나) 국가 17-09-08

(가)의 초기 영역
 (가)의 최대 영역

- ① (가) - 로마법을 집대성하였다.
- ② (가) - 성상 숭배 금지령을 발표하였다.
- ③ (가) - 콘스탄티노폴리스로 수도를 옮겼다.
- ④ (가) - 이탈리아 일부 지역을 교황령으로 기증하였다.
- ⑤ (가) - 전제 군주제를 확립하고 제국을 4분할 통치하였다.
- ⑥ (나) - 비잔티움 문화와 이슬람 문화를 융합·발전시켰다.
- ⑦ (나) - 십자군에게 수도가 점령되고 약탈을 당하기도 하였다.
- ⑧ (나) - 탄지마트 개혁으로 헌법을 제정하여 입헌 정치를 실시하였다.
- ⑨ (나) - 전성기에 지중해의 제해권을 장악하여 막대한 무역 이익을 거두었다.
- ⑩ (나) - 정해진 세금을 납부하는 조건으로 크리스토포콜로의 신앙을 인정해주었다.
- ⑪ (나) - 우마이야 왕조를 무너뜨렸다.
- ⑫ (나) - 사산 왕조 페르시아를 멸망시켰다.
- ⑬ (나) - 이집트의 맘루크 왕조를 정복하였다.
- ⑭ (나) - 북아프리카의 반달 왕국을 점령하였다.

크리스트교

41 그림은 ○○○ 방송사 역사 다큐멘터리 제작팀의 취재 경로이다. 이 다큐멘터리의 제목으로 가장 적절한 것은? 07-06-12



- ① 교황권의 성쇠
- ② 십자군 전쟁의 결과 속
- ③ 중세 농민 봉기의 현장을 가다
- ④ 한자 동맹, 최초의 유럽 경제 공동체
- ⑤ 백년 전쟁, 그 역사의 흔적을 찾아서

❖ 선지 출처

- ① 10-06-07
- ② 10-06-07
- ③ 08-06-14 10-06-07
- ④ 10-06-07
- ⑤ 08-06-14
- ⑥ 08-06-14
- ⑦ 12-06-06
- ⑧ 12-06-06
- ⑨ 08-06-14 12-06-06 13-11-11
- ⑩ 12-06-06
- ⑪~⑮ 13-06-02
- ⑯ 13-11-11
- ⑰ 13-11-11
- ⑱ 08-06-14 13-11-11
- ⑲ 13-11-11

42 다음 자료와 관련된 설명으로 옳은 것을 모두 고르면?

13-06-02

01 (가)에 들어갈 내용

역사 다큐멘터리 제작 계획서

제 목 : (가)

촬영 일정 : ○○○○년 ○○월 ○○일~○○일

촬영 도시 : 클레르몽, 베네치아, 이스탄불, 안티오크, 예루살렘

원정로
 → 제1회(1096-1099)
 --- 제4회(1202-1204)
 ○ 도시

13-11-11

02 밑줄 친 '저들'에 대한 설명

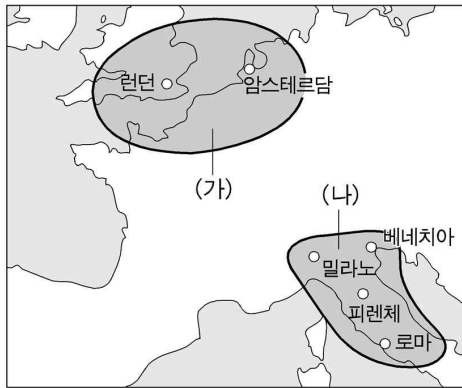
저들의 악행을 어찌 모두 기록할 수 있겠는가! 베네치아에서 출발하여 자라를 점령하고 우리 도시에 침입한 저들은 오직 성물을 약탈하고 금은보화를 차지하는데 혈안이 되었다. 심지어 성 소피아 성당의 제단을 깨뜨려 병사들에게 나누어 주고 권좌를 찬탈하였다!

- ① 제1회 십자군은 성지 회복에 실패하였다.
- ② 제1회 십자군은 교황의 호소에 따라 결성되었다.
- ③ 제4회 십자군은 콘스탄티노폴리스를 점령하고 약탈하였다.
- ④ 제4회 십자군은 오스만 제국을 몰아내기 위해 조직되었다.
- ⑤ 제4회 전쟁에서 베네치아 상인이 큰 이익을 보았다.
- ⑥ 제4회 전쟁은 십자군 세력이 쇠퇴하는 전환점이 되었다.
- ⑦ 제1회 전쟁에서 원정군은 A 상인들의 조종으로 B를 약탈하였다.
- ⑧ 제1회 전쟁으로 C와 D에 왕국이 수립되었으나 이슬람 세력의 반격으로 다시 빼앗겼다.
- ⑨ 제4회 전쟁으로 B에 라틴 제국이 성립되었다.
- ⑩ 전쟁의 명분은 성지 D를 이슬람 세력의 지배로부터 탈환하려는 것이었다.
- ⑪ (가)에 들어갈 내용 - 한자 동맹 도시들을 찾아서
- ⑫ (가)에 들어갈 내용 - 르네상스의 발상지를 찾아서
- ⑬ (가)에 들어갈 내용 - 크리스티고 5대 교구를 찾아서
- ⑭ (가)에 들어갈 내용 - 이븐 바투타의 여행길을 따라서
- ⑮ (가)에 들어갈 내용 - 십자군 전쟁의 발자취를 따라서
- ⑯ 밑줄 친 '저들' - 후우마이야 왕조를 건설하였다.
- ⑰ 밑줄 친 '저들' - 클레르몽 공의회를 주도하였다.
- ⑱ 밑줄 친 '저들' - 성지를 회복하고 예루살렘 왕국을 건설하였다.
- ⑲ 밑줄 친 '저들' - 콘스탄티노폴리스를 점령하고 이스탄불로 개칭하였다.

근대

르네상스

43 (가), (나)에서 발달한 르네상스에 관한 설명으로 옳은 것을 모두 고르면? 08-09-01



〈보기〉

- ㄱ. (가) - 마키아벨리는 강력한 군주제를 주장하였다.
- ㄴ. (가) - 자국어를 사용하는 국민 문학이 발달하였다.
- ㄷ. (나) - 대서양 무역이 경제적 기반을 제공하였다.
- ㄹ. (나) - 보카치오는 인간과 사회를 사실적으로 묘사하였다.

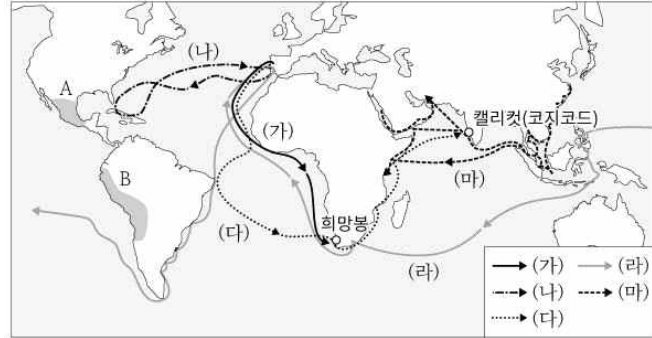
- ① ㄱ, ㄴ ② ㄱ, ㄷ ③ ㄴ, ㄷ ④ ㄴ, ㄹ ⑤ ㄷ, ㄹ

◆ 선지 출처

- ①~⑤ 07-06-08
- ⑥~⑩ 08-09-05
- ⑪~⑮ 13-06-15
- ⑯~⑳ 15-06-10

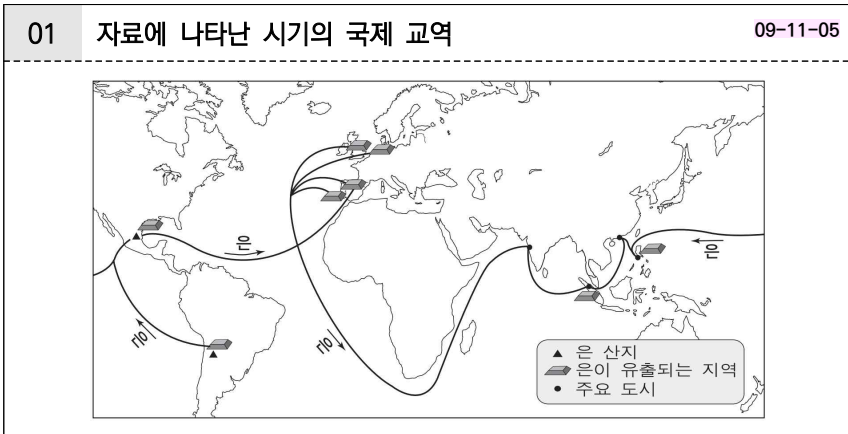
신항로 개척

44 다음 자료와 관련된 설명으로 옳은 것을 모두 고르면?



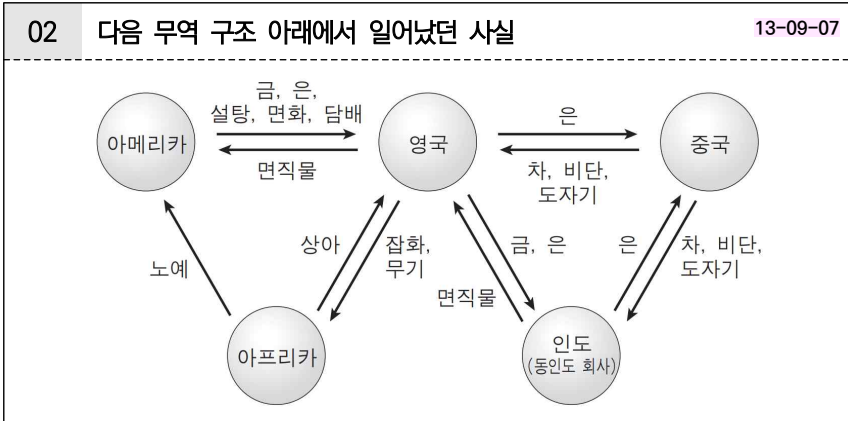
- ① 에스파냐는 A 지역의 문명을 멸망시켰다.
- ② 포르투갈은 B 지역에 식민지를 건설하였다.
- ③ 콜럼버스는 (나) 항로를 통해 신대륙에 도착하였다.
- ④ 마젤란은 (라) 항로를 따라 최초로 세계 일주를 하였다.
- ⑤ 바스쿠 다 가마는 (가) 항로를 따라 인도 항로를 개척하였다.
- ⑥ 동아시아에 끼친 영향 : 해외 무역의 발달과 중국의 시박사 설치 배경
- ⑦ 동아시아에 끼친 영향 : 감자, 땅콩, 옥수수 등의 전래와 중국 농업의 변화
- ⑧ 동아시아에 끼친 영향 : 네덜란드가 일본에 소개한 서양 문물과 난학의 성립 배경
- ⑨ 동아시아에 끼친 영향 : 아메리카 대륙에서 생산된 은의 유입과 중국 경제의 변화
- ⑩ 동아시아에 끼친 영향 : 예수회 선교사들이 소개한 유럽 문물과 중국의 실용 학문 발전
- ⑪ (나) - 뉴턴의 기계론적 우주관의 영향을 받았다.
- ⑫ (다) - 동방과의 향료 무역을 위한 것이었다.
- ⑬ (라) - 최초의 세계 일주 항해였다.
- ⑭ (나), (라) - 에스파냐의 후원으로 이루어졌다.
- ⑮ (나), (다), (라) - 항해술 및 조선술의 발달로 가능했다.
- ⑯ (다) - 희망봉을 처음 발견하였다.
- ⑰ (다) - 포토시 광산을 개발하였다.
- ⑱ (마) - 델리를 방문하고 여행기를 남겼다.
- ⑲ (마) - 동남아시아 여러 나라를 조공국으로 만들었다.
- ⑳ (다), (마) - 삼각 무역 체제를 수립하였다.

45 다음 자료에 나타난 시기의 국제 교역에 대한 옳은 설명을 모두 고르면?



선택지 출처

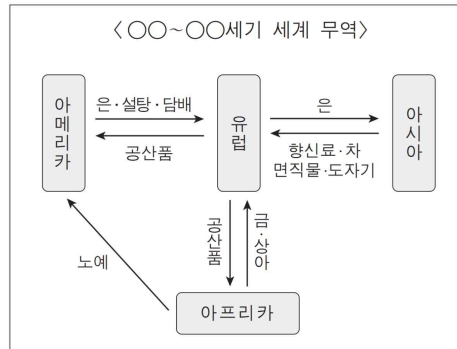
- ① ② ④ 09-11-05
- ③ 09-11-05 16-11-15
- ⑤ ⑧ 13-09-07



- ① 인도는 영국을 비롯한 유럽에 면직물을 대량 수출하였다.
- ② 영국은 중국에 아편을 판매하여 무역 역조를 해소하였다.
- ③ 아메리카의 은이 유럽에 유입되어 가격 혁명을 일으켰다.
- ④ 중국은 시박사를 두어 무역을 관리하였고, 교초를 사용하였다.
- ⑤ 인도에서는 세포이 항쟁이 일어나 거대한 반영 운동으로 발전하였다.
- ⑥ 영국에서는 새로운 방직기와 방적기의 발명으로 직물 생산이 크게 늘었다.
- ⑦ 중국에서는 교역항을 광저우로 한정하고 공행을 통해 외국 무역을 통제하였다.
- ⑧ 미국에서는 자유 무역을 주장하는 남부 7주가 보호 무역을 주장하는 북부와 대립하다가 연방을 탈퇴하였다.

46 도표에 나타난 무역에 대한 탐구 활동으로 적절하지 않은 것은?

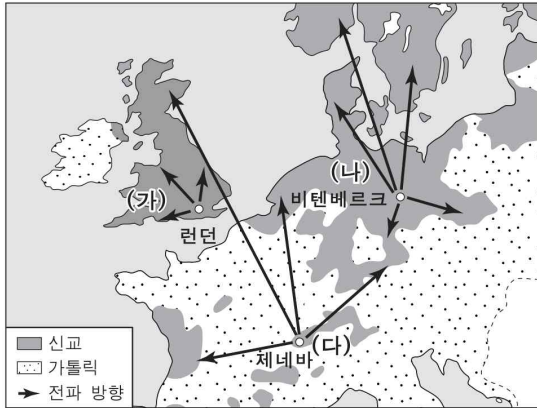
16-11-15



- ① 가격 혁명의 배경을 파악한다.
- ② 동인도 회사의 활동을 조사한다.
- ③ 신향료 개척의 영향을 분석한다.
- ④ 대서양 삼각 무역의 구조를 살펴본다.
- ⑤ 상(상)파뉴 정기 시장의 형성 배경을 알아본다.

종교 개혁

47 지도는 16세기 종교 개혁의 전파를 보여준다. 신교 분파인 (가)~(다)에 대한 설명으로 적절한 것을 모두 고르면?



- ① (가)는 종교 개혁을 계기로 아시아에 선교 활동을 강화하였다. 12-09-19
- ② (나)는 주로 도시 상공인의 환영을 받았다. 07-06-17
- ③ (나)는 수장령을 공포하여 교황으로부터 독립하였다. 12-09-19
- ④ (다)는 교회 생활에 자치적 요소를 도입하였다. 07-06-17
- ⑤ (가), (다) 사이의 분쟁은 베스트팔렌 조약으로 종결되었다. 12-09-19
- ⑥ (나), (다)는 주로 교리상의 문제로 로마 교황과 결별하였다. 07-06-17
- ⑦ (나), (다)는 초기 크리스티교에 지대한 관심을 가지고 성서(지상)주의를 지향하였다. 12-09-19
- ⑧ (가)는 (나), (다)보다 더 많은 가톨릭적 요소를 유지하였다. 07-06-17 12-09-19
- ⑨ (가), (나), (다)는 가톨릭 개혁에 큰 자극이 되었다. 07-06-17

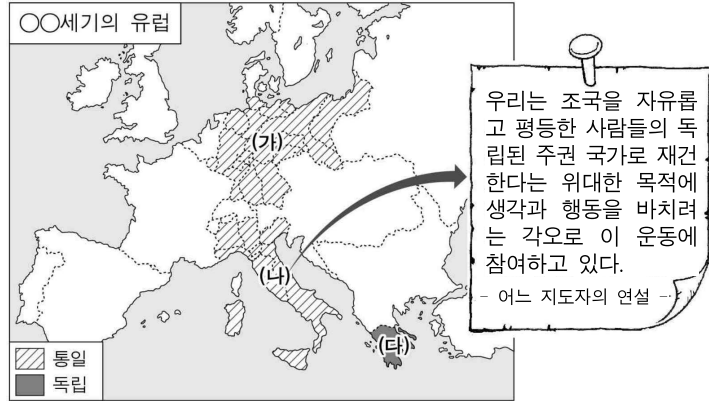
❖ 신지 출처

①~④ 08-06-17

⑤~⑨ 10-09-07

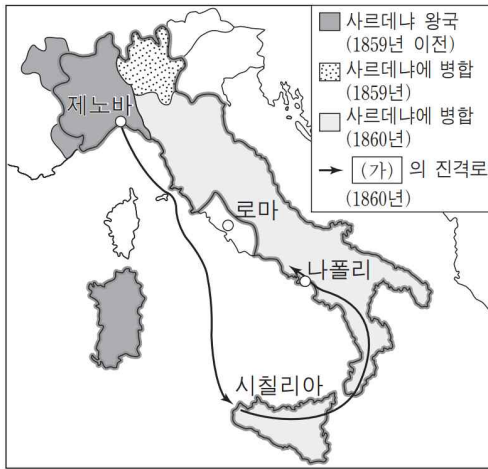
국민 국가의 형성

48 지도는 19세기의 국가를 나타낸 것이다. (가), (나), (다) 국가에 대한 옳은 설명을 모두 고르면?



- ① (가)는 제정으로, (나)는 공화정으로 통일되었다.
- ② 프랑스는 (가)의 통일을 반대하였고, (나)의 통일을 지원하였다.
- ③ (가)에서는 프로이센이, (나)에서는 샤흐르데냐가 통일의 중심 세력이었다.
- ④ (가)에서는 비스마르크가, (나)에서는 마키아벨리가 통일을 주도하였다.
- ⑤ (가), (나), (다) - 계급적 평등을 지향하는 사회주의 체제가 건설되었다.
- ⑥ (가), (나), (다) - 왕권 신수설을 내세우는 절대주의 국가가 출현하였다.
- ⑦ (가), (나), (다) - 인종적 순수성을 표방하는 전체주의 국가가 대두하였다.
- ⑧ (가), (나), (다) - 민족의 자유와 통합을 앞세우는 민족 국가가 형성되었다.
- ⑨ (가), (나), (다) - 개혁과 부국강병을 추구하는 계몽 전제 군주정이 수립되었다.

49 (가) 인물에 대한 설명으로 옳은 것은? 12-11-11



〈이탈리아의 통일 과정〉

- ① 파시스트로서 로마 진군을 주도하였다.
- ② 사르데냐 왕국의 수상으로 이탈리아 통일 전쟁을 일으켰다.
- ③ 황제로서 사르데냐 왕국의 이탈리아 통일 전쟁을 지원하였다.
- ④ 인문주의자로서 '군주론'을 통해 이탈리아 통일을 주창하였다.
- ⑤ 청년 이탈리아당 출신으로 점령지를 사르데냐 국왕에게 바쳤다.

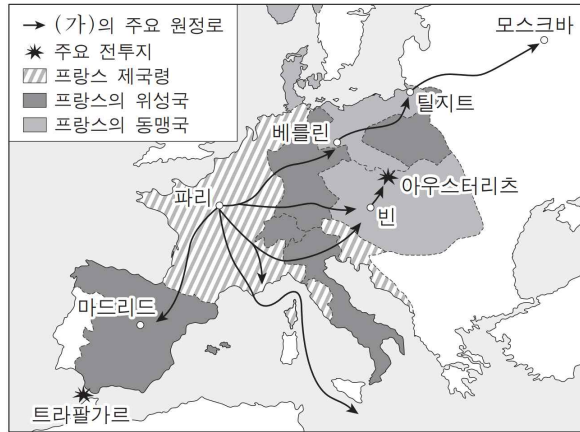
50 다음 문서의 밑줄 친 ㉠에 해당하는 지역을 지도에서 바르게 찾은 것은? [3점] 08-06-20

우리는 유럽 열강의 식민지나 속령에 대하여 간섭한 적이 없고, 또 간섭하지도 않을 것이다. 다만 ㉠이 독립을 선언하고 그 상태를 유지하고 있으며, 또 우리가 독립을 승인한 정부들에 대해서는, 유럽 열강이 이를 억압하거나 간섭하면, 우리는 그것을 모두 미국에 대한 비우호적인 의지를 드러낸 것이라고 간주할 수밖에 없다.

- 1823년 12월 2일 -

- ① A
- ② B
- ③ C
- ④ D
- ⑤ E

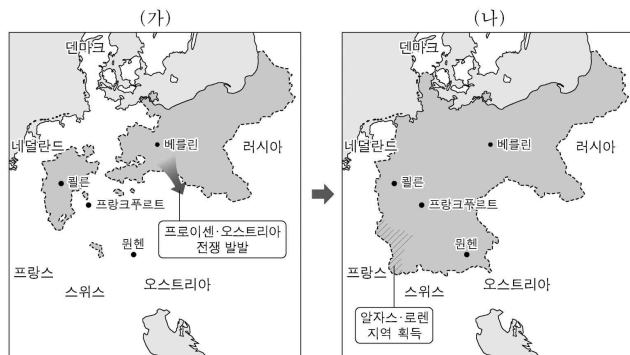
51 (가) 인물에 대한 설명으로 옳은 것은?



- ① 대륙 봉쇄령을 내렸다. 17-11-11
- ② 총재 정부를 수립하였다. 17-11-11
- ③ 워털루에서 전투를 벌였다. 17-11-11
- ④ 이집트 원정을 단행하였다. 17-11-11
- ⑤ 노트르담 대성당에서 황제로 즉위하였다. 17-11-11
- ⑥ 국민 투표를 통해 황제에 즉위하였다. 21수완
- ⑦ 신성 동맹과 4국 동맹의 결성을 주도하였다. 21수완
- ⑧ 정복 전쟁 과정에서 혁명의 이념을 확산시켰다. 21수완
- ⑨ 2월 혁명을 계기로 대통령이 되었고, 이후 황제가 되었다. 21수완

52 (가), (나) 시기 사이에 볼 수 있는 모습으로 적절한 것은? [3점]

20-11-16



〈○○의 통일 과정〉

- ① 크림 전쟁에 참전하는 러시아 병사
- ② 노예 해방령에 서명하는 미국 대통령
- ③ 곡물법 폐지 요구 집회에 참가하는 런던 노동자
- ④ 루이 나폴레옹의 대통령 취임식에 참석하는 성직자
- ⑤ 이탈리아 왕국 법원에서 근무하는 사르데냐 출신 관리

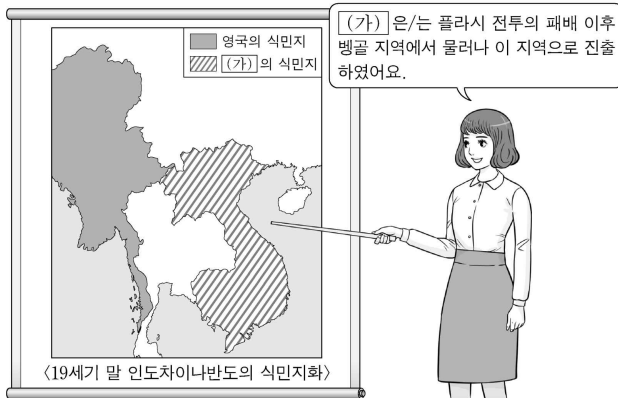
제국주의

53 다음 자료와 관련된 설명으로 옳지 않은 것을 고르면? 11-09-09



- ① 민족주의
- ② 인종주의
- ③ 전체주의
- ④ 제국주의
- ⑤ 사회 진화론

54 (가) 국가에 대한 설명으로 옳은 것은? 22-09-15



- ① 필리핀을 식민지로 삼았다.
- ② 제2차 아편 전쟁에 가담하였다.
- ③ 포토시 은광 개발을 주도하였다.
- ④ 이산들와나 전투에서 패배하였다.
- ⑤ 바스쿠 다 가마의 항해를 지원하였다.

55 다음 선지에 해당하는 (가)~(마) 국가를 쓰시오.

01 (가)~(라) 국가

02 (마) 국가 18-11-17

(마) 은/는 아프리카에서 노예를 포획하여 아메리카로 수출함으로써 많은 부를 축적하였다. 19세기 후반에는 용병을 활용하여 아프리카 식민지에 대한 장악력을 확대하였다.

- ① 인도로 가는 길을 단축하기 위해서 수에즈 운하를 건설하였다. 14-09-18
- ② 베를린, 비잔티움, 바그다드를 연결하는 3B 정책을 추진하였다.

14-09-18 18-11-17

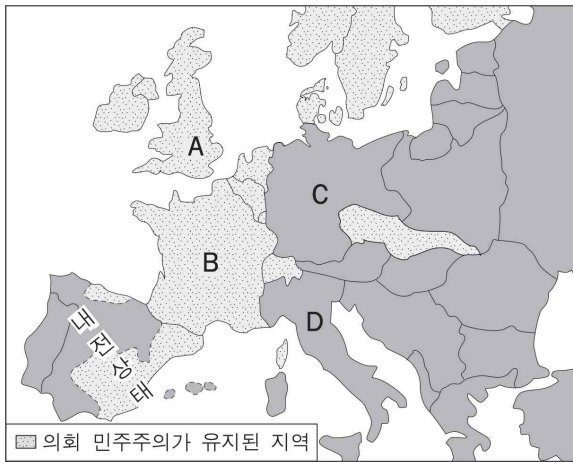
- ③ 케이프타운을 아프리카 진출의 거점으로 삼았다. 14-09-18
- ④ 삼국 협상을 체결하여 식민 정책을 강화하였다. 14-09-18
- ⑤ 아도와 전투에서 에티오피아에 패배하였다. 18-06-15
- ⑥ 카이로와 케이프타운을 잇는 정책을 추진하였다. 18-06-15
- ⑦ 줄루 왕국을 침략하여 식민지로 삼았다. 18-06-15
- ⑧ 헤레로족의 봉기를 무력으로 진압하였다. 18-06-15 21-06-17
- ⑨ 팽창 정책을 추진하며 파쇼다 사건을 일으켰다. 14-09-18 18-06-15
- ⑩ 미국과의 전쟁에서 패배하여 쿠바를 상실하였다. 18-11-17
- ⑪ 이집트를 보호국으로 삼고 수에즈 운하를 차지하였다. 18-11-17
- ⑫ 동남아시아에 진출하여 인도차이나 연방을 수립하였다. 18-11-17
- ⑬ 16세기 동남아시아와 유럽 사이의 향신료 무역을 주도하였다. 18-11-17
- ⑭ 벵골 분할령을 발표하였다. 21-06-17
- ⑮ 아스테카 제국을 멸망시켰다. 21-06-17
- ⑯ 플라시 전투에서 패배하였다. 21-06-17
- ⑰ 무력시위를 통해 일본을 개항시켰다. 21-06-17

현대

세계 대전

56 지도가 나타내는 시기의 A~D 국가에 대한 옳은 설명을 <보기>에서 고른 것은? 08-11-03

<민주주의의 위기(1937년의 유럽)>

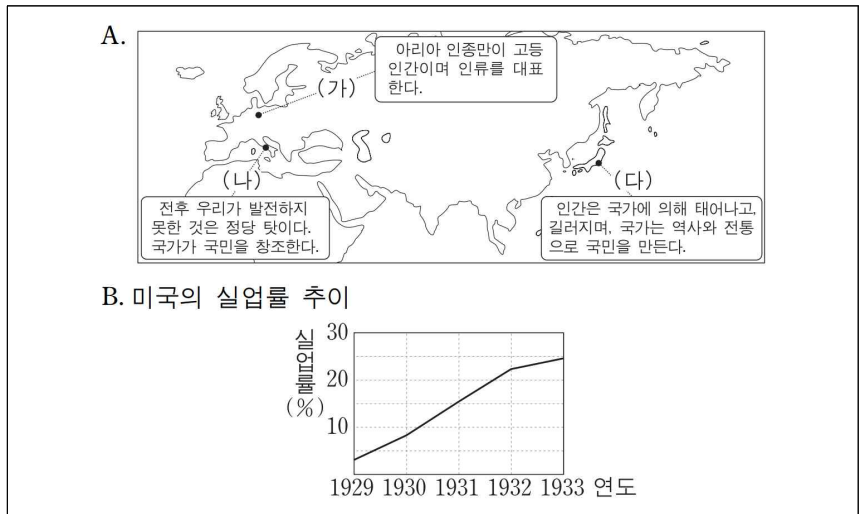


<보 기>

- ㄱ. A - 민주적인 바이마르 공화국을 수립하고 보통 선거를 실시하였다.
- ㄴ. B - 경제 공황을 극복하기 위해 자국과 식민지를 묶는 블록 경제 정책을 실시하였다.
- ㄷ. C - 마셜 계획에 힘입어 '라인 강의 기적'이라 불리는 경제 부흥을 이끌었다.
- ㄹ. D - 파시스트 정권이 에스파냐 내전에서 군부 반란 세력을 지원하였다.

- ① ㄱ, ㄴ ② ㄱ, ㄷ ③ ㄴ, ㄷ ④ ㄴ, ㄹ ⑤ ㄷ, ㄹ

[57~58] 다음 자료를 보고 물음에 답하십시오.



57 A의 (가)~(다) 국가의 공통된 주장으로 옳지 않은 것은? 09-09-10

- ① 국가의 이익을 위해 다른 지역을 확보해야 한다.
- ② 국가를 위해 개인의 권리와 자유는 제한되어야 한다.
- ③ 국가의 발전을 위해 하나의 정치 세력이 국가의 모든 권력을 장악해야 한다.
- ④ 영구적인 평화는 불가능하기 때문에 전쟁을 통해 인간의 힘을 발휘해야 한다.
- ⑤ 인종의 차이는 자연의 기본 원리이기 때문에 열등한 인종은 말살되어야 한다.

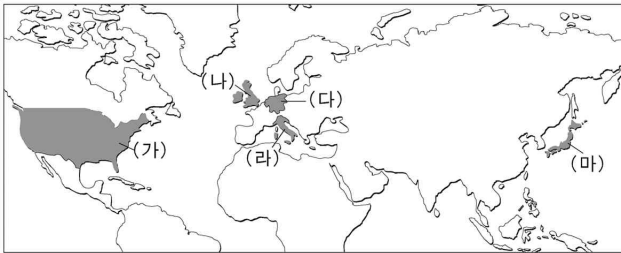
58 B가 보여주는 경제 변동이 계기가 되어 나타난 (가)~(다) 국가의 움직임으로 옳은 것은? 09-09-11

- ① (가) - 연방을 결성하여 블록 경제권을 형성하였다.
- ② (나) - 자본가 등의 지지를 받은 무솔리니가 정권을 잡았다.
- ③ (다) - 대륙 침략을 통해 만주국을 세웠다.
- ④ (가), (나) - 유럽의 현상 유지를 위해 삼국 동맹을 주도하였다.
- ⑤ (가), (다) - 전쟁을 막기 위해 국제 연맹을 창설하였다.

대공황

59 다음 글에 나타난 역사적 사실에 대한 각 국가의 대응으로 옳은 것은?

07-09-15



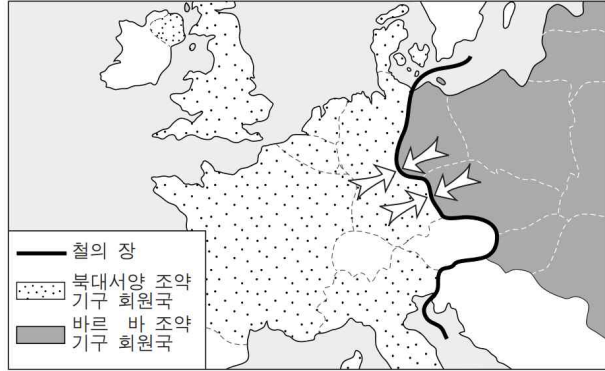
1929년 10월, 금융 시장이 급격히 무너졌다. 거래하던 회사의 사장이 나에게 200만 달러를 빌려 줄 수 있는지 물었다. 나는 이 시기에 나와 절친한 친구들을 보호해야 했기 때문에 그 요청을 거절했다. 사장이 가지고 있던 주당 115달러의 주식은 2달러로 폭락했다. 어제까지만 해도 고급차를 몰고 다니던 사람들이 지금은 운이 좋아야 버스 요금을 치를 수 있었다.

- ① (가)는 경기 침체를 해결하기 위해 중국을 침략하였다.
- ② (나)는 뉴딜 정책을 통해 위기를 극복하였다.
- ③ (다)는 나치당이 집권하여 전체주의 체제를 수립하였다.
- ④ (라)는 무솔리니가 쿠데타로 집권하여 독재 체제를 만들었다.
- ⑤ (마)는 배타적인 경제 블록을 형성하여 산업을 보호하였다.

냉전

60 지도에 나타난 국제적 대립 관계로 인해 일어난 사건을 모두 고르면?

[3점] 07-11-17



〈보기〉

- ㉠. 쿠바 위기 발생
- ㉡. 발칸 전쟁 발발
- ㉢. 베를린 장벽 구축
- ㉣. 세계 무역 기구 창설

- ① ㉠, ㉡ ② ㉠, ㉢ ③ ㉡, ㉢ ④ ㉡, ㉣ ⑤ ㉢, ㉣

61 지도는 어느 방송사의 역사 다큐멘터리 팀이 프로그램 제작을 위해 방문할 국가들을 표시한 것이다. 이 다큐멘터리의 제목으로 가장 적절한 것은? [3점]

12-09-15



- ① 먼로 독트린의 이상과 현실
- ② 베르사유 체제의 형성과 해체
- ③ 닉슨 독트린의 정책 목표와 효과
- ④ 워싱턴 군축 회의의 지향과 실제
- ⑤ 독립 국가 연합(CIS) 회원국 사이의 긴장

62 밑줄 친 ‘이 회의’에 대한 설명으로 옳은 것은? [3점] 22-06-20



- ① 냉전 체제의 기원이 되었다.
- ② 제3 세계 형성에 기여하였다.
- ③ 브레턴우즈 체제를 성립시켰다.
- ④ 마스트리히트 조약을 체결하였다.
- ⑤ 독립 국가 연합(CIS)을 출범시켰다.





일본

63 (가)~(다) 시대에 볼 수 있는 모습으로 적절한 것을 모두 고르면?

01 (가), (나) 시대 10-09-12

일본의 역사 변천

(가)

- 정치 : 율령 체제
- 경제 : 호족의 장원 확대
- 사회 : 호위 무사 등장
- 문화 : 『겐지 이야기』 출현

역대 정권 소재지

■ → ○ → □ → ◎

에도
가마쿠라
교토
나라

가마쿠라 막부 성립

'일본' 국호 성립

(나)

- 정치 : 막번 체제
- 경제 : 가부나카마 등장
- 사회 : 호농, 호상 등장
- 문화 : 난학(蘭學) 발달

* 7세기 말에 '일본' 국호와 '천황' 칭호가 사용되었다. 나라 시대는 710~794년.

02 (다) 시대 14-06-09

헤이조쿄

사이다이 사, 평성궁, 소스인, 도다이 사, 나성문, 불교 사원

- ① (가) - 견당사가 처음으로 파견되었다. 08-11-05
- ② (가) - 귀족을 중심으로 국풍 문화가 발달하였다. 08-11-05 14-06-09
- ③ (가) - 가부키와 우키요에 등 조닌 문화가 발달하였다. 08-11-05 14-06-09
- ④ (가) - 쌀농사와 철기의 전래로 여러 소국이 성립되었다. 08-11-05
- ⑤ (가) - 율령을 받아들여 국왕 중심의 집권 체제가 수립되었다. 08-11-05
- ⑥ (가) - 헤이조쿄로 천도 명령을 내리는 왕 10-09-12
- ⑦ (가) - 다이카 개신의 조서를 발표하는 대신 10-09-12
- ⑧ (나) - 신분제 철폐에 환호하는 시민 10-09-12
- ⑨ (나) - 가부키 공연을 관람하는 조닌 10-09-12
- ⑩ (나) - 원의 침략에 맞서 싸우는 사무라이 10-09-12
- ⑪ (다) - 『겐지 이야기』가 저술되었다. 14-06-09
- ⑫ (다) - 『고사기』, 『일본서기』 등이 편찬되었다. 14-06-09
- ⑬ (다) - 쇼토쿠 태자에 의해 불교 진흥책이 실시되었다. 14-06-09

|



인도

[64~65] 다음 자료를 보고 물음에 답하십시오.

<p>01 (가) 07-11-08</p>	<p>02 (나) 21수완</p>
<p>기원전 3세기 통일 왕조의 영역</p>	
<p>03 (다) 17-06-02</p>	<p>04 (라)</p>
<p>05 (마) 19-11-09</p>	

64 다음 선지에 해당하는 (가)~(마) 왕조를 쓰시오.

- ① 힌두교가 유행하였다.
- ② 이슬람교를 수용하였다.
- ③ 보로부두르를 축조하였어요.
- ④ 쿠드브 미나르가 건립되었다.
- ⑤ 불교와 자이나교가 출현하였다.
- ⑥ 데브시르메 제도를 시행하였다.
- ⑦ 우르두어가 널리 사용되었어요.
- ⑧ 시크교도들의 반란을 진압하였다.
- ⑨ 아소카왕 시기에 전성기를 누렸다.
- ⑩ 영(0)의 개념과 10진법 등을 발견하였다.
- ⑪ 찬드라굽타 마우리아가 세운 통일 국가이다.
- ⑫ 중생 구제를 지향하는 대승 불교가 성립되어 각지로 전파되었다.
- ⑬ 우상 숭배를 배척하고 인간 평등을 주장하는 시크교가 등장하였다.
- ⑭ 아소카 왕의 후원으로 불경이 간행되고 불탑(산치 대탑)이 만들어졌다.
- ⑮ 산스크리트어가 공용어가 되고 샤쿤탈라 등 산스크리트 문학이 발달하였다.
- ⑯ 『마하바라타』가 완성되고 아진타 석굴 및 엘로라 석굴 등의 건축물이 세워졌다.
- ⑰ 인도 문화와 헬레니즘 문화가 융합된 간다라 미술과 인도 전통이 융합된 불교 문화가 탄생하였다.
- ⑱ 돔 지붕, 첨탑, 연꽃 문양으로 장식하고 힌두 문화와 이슬람 문화가 융합된 양식의 타지마할 묘당이 세워졌다.

65 A, B 황제에 대한 설명으로 옳은 것은? 19-11-09

- ① A - 타지마할을 건립하였다.
- ② A - 티무르 제국을 창건하였다.
- ③ B - 지즈야를 부활시켰다.
- ④ B - 델리 술탄 왕조를 무너뜨렸다.
- ⑤ A, B - 마라타 동맹의 반란에 직면하였다.

선지 출처

- ① 08-09-18 11-09-13
- ② 22-09-10
- ③ 17-06-02
- ④ 17-11-03 22-09-10
- ⑤ 17-11-03
- ⑥ 22-09-10
- ⑦ 17-06-02 17-11-03 22-09-10
- ⑧ 13-11-17
- ⑨ 22-09-10
- ⑩ 08-09-18
- ⑪ 13-11-17
- ⑫ 10-09-03 11-09-13
- ⑬ 11-06-04 17-06-02
- ⑭ 08-09-18 11-09-13
- ⑮ 11-06-04 13-11-17
17-06-02 17-11-03
- ⑯ 08-09-18 10-09-03
11-06-04 11-09-13
- ⑰ 08-09-18 10-09-03 11-06-04
11-09-13 13-11-17
- ⑱ 10-09-03 11-06-04 17-06-02

66 (가) 왕조의 문화에 대한 설명으로 옳은 것은?

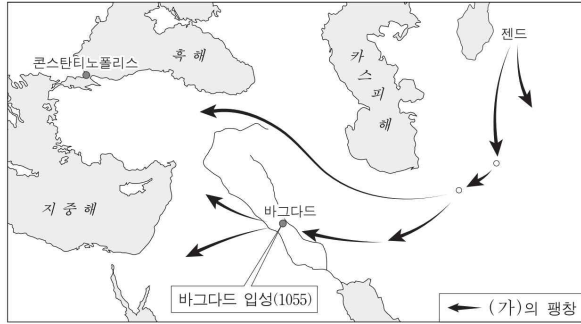
알렉산드로스의 사망 이후 그의 부하였던 셀레우코스 1세가 페르시아의 왕을 자처하며 인더스강 유역을 침입하였다. 그는 편자브 지방을 거점으로 영토 팽창을 시도하였으나, 인도 북부를 차지하고 있던 (가)의 저항에 가로막혔다. 결국 셀레우코스 1세는 (가)와/과 평화 협정을 맺어 편자브 지방 및 아프가니스탄의 일부 등을 양도하고, 친선 관계 유지를 위해 사절을 파탈리푸트라에 파견하였다.

- ① 시크교가 출현하였다.
- ② 샤쿤탈라가 저술되었다.
- ③ 상좌부 불교가 발달하였다.
- ④ 쿠티브 미나르가 건립되었다.
- ⑤ 간다라 양식의 불상이 제작되었다.



서아시아

67 (가) 민족에 대한 설명으로 옳은 것은? [3점] 15-09-06




- ① 칼리프 선출제를 시행하였다.
- ② 이베리아 반도를 정복하였다.
- ③ 사산 왕조 페르시아를 정복하였다.
- ④ 당과의 탈라스 전투에서 승리하였다.
- ⑤ 아바스 왕조로부터 술탄의 칭호를 얻었다.

68 밑줄 친 '제국'에 대한 설명으로 옳은 것을 모두 고르면?

01 20-11-06

제국의 국왕은 리디아의 수도인 사르디스를 포위하고서, 성채에 제일 먼저 오르는 자에게 큰 상을 내리겠다고 공표하였다. 하지만 성공하는 병사가 없어 모두가 단념하고 있을 때, 히로이아데스라는 자가 홀로 리디아의 경비병이 배치되지 않은 절벽을 기어오르자 다른 병사들도 따라 올라갔다. 수많은 병사들이 성채에 올라 마침내 사르디스가 함락되었고, 리디아는 멸망하였다.

02 21-11-06



그림은 터키 남부의 유적지에서 출토된 석관의 부조를 스케치한 것으로, 리디아 지방을 관장하는 총독 바드프라다드가 사절단을 영접하는 장면을 묘사하고 있다. 그는 제국 말기의 혼란 속에서 수도와 사르디스를 잇는 도로망 일대를 장악했던 반란군에 맞서 싸웠다. 또한 에게해 섬들이 필리포스 2세에 의해 결성된 코린토스 동맹에 동조하며 제국에 대항하자, 이들을 공략하였다.

- ① 이집트를 정복하였다. 20-11-06
- ② 아무르인에 의해 세워졌다. 20-11-06
- ③ 신바빌로니아에 멸망당하였다. 20-11-06
- ④ 이베리아반도까지 영토를 확장하였다. 20-11-06
- ⑤ 카르타고 등의 식민 도시를 건설하였다. 20-11-06
- ⑥ 데브시르메 제도를 운용하였다. 21-11-06
- ⑦ 군관구제와 둔전병제를 실시하였다. 21-11-06
- ⑧ 수도 니네베에 왕립 도서관을 건립하였다. 21-11-06
- ⑨ 마라톤 전투에서 그리스 군대와 격돌하였다. 21-11-06
- ⑩ 부족제를 개편하여 500인 평의회를 설치하였다. 21-11-06

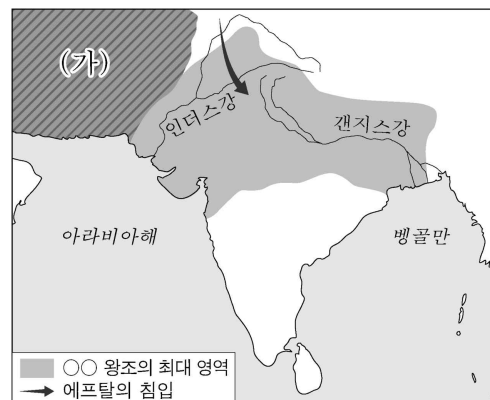
69 (가), (나) 도시에 대한 설명으로 옳은 것은? [3점] 20-11-06

◦ 정통 칼리프 시대를 끝내고 등장한 새 왕조는 □(가)을/를 도읍으로 정하였다. 이 도시는 메디나보다 훨씬 손쉽게 지중해 동부 해안 지대로 진출할 수 있다는 이점을 지니고 있었다.

◦ 시아파의 지원을 받은 가문이 비아랍인을 차별하던 왕조를 타도한 후 새 왕조를 개창하고 □(나)으로 천도하였다. 이 도시는 동서 무역의 중심지로 성장하여 '세계의 시장'으로 불렸다.

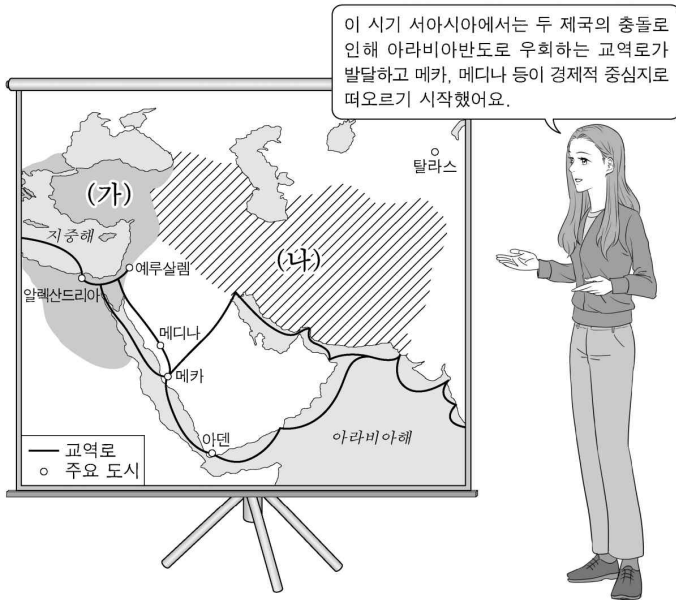
- ① (가) - 사파비 왕조의 수도였다.
- ② (가) - 파르티아에 의해 점령되었다.
- ③ (나) - 후우마이야 왕조의 수도였다.
- ④ (나) - 셀주크 튀르크에 의해 점령되었다.
- ⑤ (가), (나) - 십자군에 의해 정복되었다.

70 (가) 제국에 대한 설명으로 옳은 것은? 21-09-19



- ① 파티마 왕조를 무너뜨렸다.
- ② 사마르칸트를 수도로 삼았다.
- ③ 이베리아반도까지 진출하였다.
- ④ 이슬람 세력에 의해 멸망되었다.
- ⑤ 마라타 동맹의 반란을 진압하였다.

71 (가), (나) 제국에 대한 설명으로 옳은 것은? [3점] 21-11-12



- ① (가) - 파르티아를 정복하였다.
- ② (가) - 밀레트 제도를 운용하였다.
- ③ (나) - 바그다드를 수도로 삼았다.
- ④ (나) - 이스마일 1세에 의해 수립되었다.
- ⑤ (가), (나) - 이슬람 세력에 의해 멸망하였다.

72 (가) 제국에서 있었던 사실로 옳은 것은? 22-06-04

【우표로 보는 세계사】

이 우표 속 장면은 (가)의 아르다시르 1세가 아후라 마즈다로부터 왕의 권위를 부여받는 모습이다. 그는 호르미즈다간에서의 승리를 계기로 파르티아를 멸망시켰다. 그의 치세 이래로 (가)은/는 로마 제국과 대립하며 메소포타미아 지역에서 인더스강 유역에 이르는 영역을 지배하였으며, 동서 교역의 요충지를 장악하여 중계 무역으로 번영하였다.

- ① 마니교가 출현하였다.
- ② 밀레트 제도가 운영되었다.
- ③ 마라타 동맹의 반란이 일어났다.
- ④ 수도 니네베에 왕립 도서관이 세워졌다.
- ⑤ 수사와 사르디스를 잇는 왕의 길이 건설되었다.





동남아시아

73 다음 선지에 해당하는 (가)~(아) 국가를 쓰시오.

01 (가)~(사)

*단, (가)는 1947년 독립 이전의 영토임.

02 (아) 18-09-12

역사 인물 사전


주달관(약 1266-1346)

주달관은 동남아시아 사정에 밝다는 이유로 원 황제의 명을 받고 (가)을/를 방문하여 1년 남짓 체류하였다. 이때 얻은 크메르인의 왕궁, 종교, 풍습 등에 대한 견문을 바탕으로 책을 저술하였다. 그의 책은 매우 중요한 사료로 평가받고 있다.

아시아 편

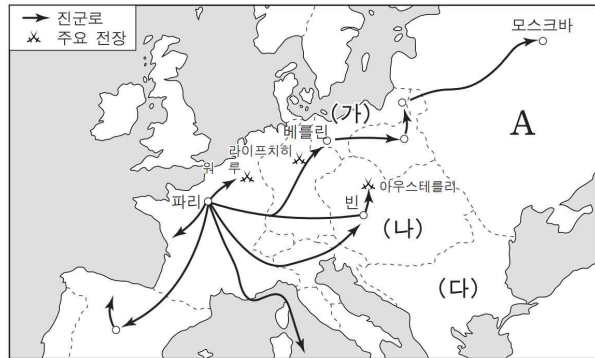
■ (가)의 최대 영역
○ (가)의 수도
→ 주달관의 이동 경로

- ① 한자를 기초로 하여 쓰놈 문자를 만들었다. 12-06-12 16-11-20
- ② '사원의 도시'라는 뜻을 가진 앙코르 와트를 세웠다. 12-06-12
- ③ 대표적 문화 유산으로 보로부두르 사원이 있다. 12-06-12 16-11-20
- ④ 힌두 문화와 이슬람 문화가 융합된 타지마할을 세웠다. 12-06-12
- ⑤ 판 보이쩌우의 주도로 근대화를 추구하는 동유 운동이 일어났다. 14-11-14 15-11-11
- ⑥ '해방자' 볼리바르가 독립 운동을 주도하였다. 14-11-14
- ⑦ 아기날도가 무장 조직을 이끌고 독립 운동을 전개하였다. 14-11-14
- ⑧ 브라흐마 사마지 운동으로 민족의식이 고양되었다. 14-11-14 15-11-11
- ⑨ 와하브(와하비) 운동으로 독립 정신이 고취되었다. 14-11-14 15-11-11
- ⑩ 카르티니의 여성 교육 운동으로 민족적 자각이 높아졌다. 14-11-14 15-11-11
- ⑪ 호세 리살이 독립 운동 단체를 조직하였다. 15-11-11
- ⑫ 대승 불교의 중심지였어요. 16-11-20
- ⑬ 서구 열강의 식민 지배를 받지 않았어요. 16-11-20
- ⑭ 므라카 왕조의 주도로 해상 무역이 발전하였어요. 16-11-20



지역사 및 각국사

[74~75] 지도는 어느 전쟁의 상황을 나타낸다.
물음에 답하십시오.



74 이 전쟁을 주도한 인물에 대한 설명으로 옳은 것은? 07-11-13

- ① 낭트 칙령을 폐지하여 신교도를 탄압했다.
- ② 이탈리아 통일 전쟁과 크림 전쟁에 관여했다.
- ③ 봉건적 특권을 폐지하고 인권 선언을 발표했다.
- ④ 근대 시민 사회의 규범을 담은 법전을 편찬했다.
- ⑤ 베르사유 궁전을 지어 화려한 궁정 문화를 꽃피웠다.


75 A 국가에서 전개된 19세기의 역사적 사실이 아닌 것은? [3점]

07-11-14

- ① 국가 주도로 산업화를 추진했다.
- ② 빈 체제에 적극적으로 참여했다.
- ③ (가), (나) 국가와 함께 유럽의 자유주의를 억압했다.
- ④ (다) 국가와의 전쟁에서 패한 후 농노제를 폐지했다.
- ⑤ 노동자와 병사들이 혁명을 일으켜 황제를 퇴위시켰다.

76 다음 문화유산을 남긴 지역의 역사에 대한 옳은 설명을 모두 고르면?

08-06-03



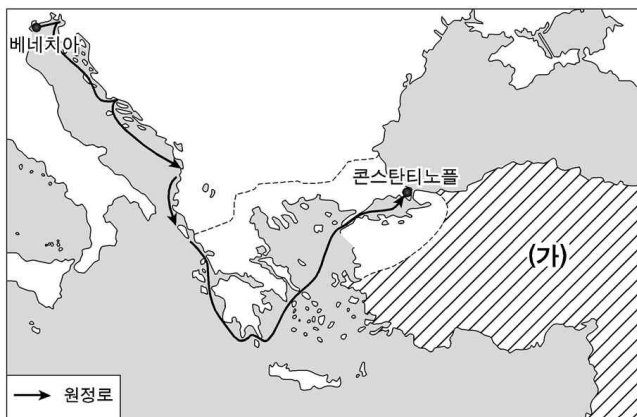
〈보 기〉

- ㄱ. 상거래와 여가 생활은 아고라에서 이루어졌다.
- ㄴ. 영혼 불멸과 사후 세계를 믿어 '사자의 서'를 남겼다.
- ㄷ. 티무르 왕조의 중심지로서 동서 문화의 교량 역할을 하였다.
- ㄹ. 헬레니즘 시대에는 이곳의 알렉산드리아가 문화의 중심지였다.

- ① ㄱ, ㄴ ② ㄱ, ㄷ ③ ㄴ, ㄷ ④ ㄴ, ㄹ ⑤ ㄷ, ㄹ

77 위 지도의 (가) 국가에 대한 설명으로 옳지 않은 것은? [3점]

08-06-15



- ① 예루살렘을 점령하였다.
- ② 몽골족의 침입으로 멸망하였다.
- ③ 술탄이 정치적 실권을 행사하였다.
- ④ 아랍어로 씌어진 '쿠란'을 중시하였다.
- ⑤ 비잔티움 제국을 멸망시키고 유럽으로 진출하였다.

78 자료와 관련된 국가에 대한 설명으로 옳은 것은?

01 09-11-15

02 22-11-15

〈세계사 수업 활동지〉 3학년 ○반 ○○○

○주제: (가), 전쟁의 참상을 기억하다.

○학습 내용


독일은 (가)을/를 공격함으로써 제2차 세계 대전을 일으켰고, 아우슈비츠 수용소에서 홀로코스트를 자행하였다.

발트해

브란트 총리는 독일의 과거사를 사죄하는 의미에서 바르샤바에 있는 전쟁 피해자를 추모하는 기념물 앞에 무릎을 꿇었다.

- ① 노르만족이 건설하였다. 09-11-15
- ② 오스만 제국의 지배를 받았다. 09-11-15
- ③ 자유 노조의 활약으로 비공산 정권이 수립되었다. 09-11-15
- ④ 제3 세계의 일원으로서 비동맹 외교를 주도하였다. 09-11-15
- ⑤ 동인도 회사를 설립하여 아시아 무역을 통해 번영하였다. 09-11-15
- ⑥ 제1차 비동맹 회의를 개최하였다. 22-11-15
- ⑦ 독립 국가 연합[CIS]에 가입하였다. 22-11-15
- ⑧ 하벨이 벨벳 혁명을 통해 민주 정부를 수립하였다. 22-11-15
- ⑨ 바웬사가 이끄는 자유 노조가 총선에서 승리하였다. 22-11-15
- ⑩ 카슈미르 지방을 둘러싸고 영토 분쟁이 발발하였다. 22-11-15

79 다음 도시를 수도로 삼았던 역사상의 각 제국에 해당하는 사실로 옳지 않은 것은? [3점] 10-09-10

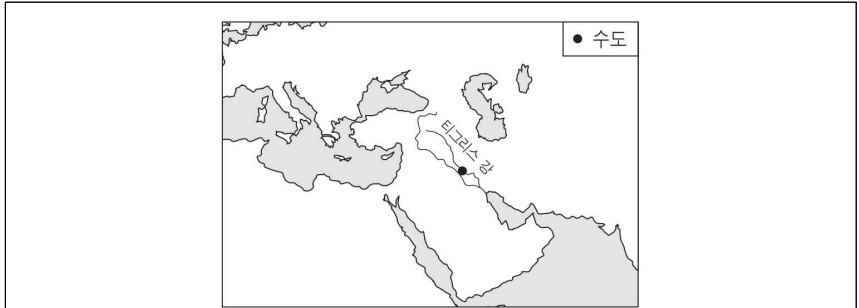


이 도시는 원래 그리스인이 세운 식민지에서 유래하였다. 흑해의 관문에 위치하여 오랫동안 동서 문화를 잇는 교역의 역할을 하였다. 이곳에는 그리스, 비잔티움, 이슬람 문화가 혼합된 독특한 건축물이 많이 있다. 사진에 보이는 건축물은 이 도시를 대표하는 문화유산이다.

- ① 로마법을 집대성한 대법전을 편찬하였다.
- ② 예루살렘을 정복하여 십자군 전쟁을 유발하였다.
- ③ 술탄이 칼리프를 겸하여 정치와 종교를 지배하였다.
- ④ 그리스어를 공용어로 하고 그리스 고전을 보존하였다.
- ⑤ 에스파냐 연합 함대를 격파하여 지중해 제해권을 장악하였다.

80 밑줄 친 '이 도시'를 수도로 삼았던 왕조에 대한 설명으로 옳은 것은?

10-11-09



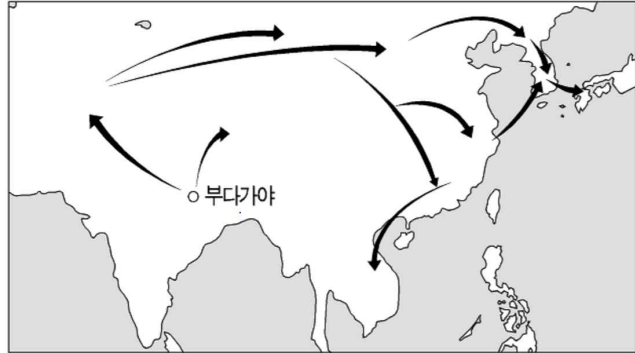
티그리스강 기슭에 건설된 이 도시는 '평화의 도시'라고 불렸다. 이 도시의 인구는 당시 세계 최대의 도시였던 당나라 장안에 버금갔다. 이 도시에는 그리스교도, 이슬람교도, 유대인, 페르시아인, 시리아인, 중앙아시아인 등 다양한 사람이 모여들었다. 이 도시가 이렇게 범세계적인 면모를 갖출 수 있었던 것은 지배자들이 종족의 차별을 철폐하고 학문과 문화를 장려하였기 때문이다.

- ① 헤지라를 감행하였다.
- ② 탄지마트를 추진하였다.
- ③ 와하브 운동을 전개하였다.
- ④ 탈라스 전투에서 승리하였다.
- ⑤ 수에즈 운하의 운영권을 장악하였다.



종교

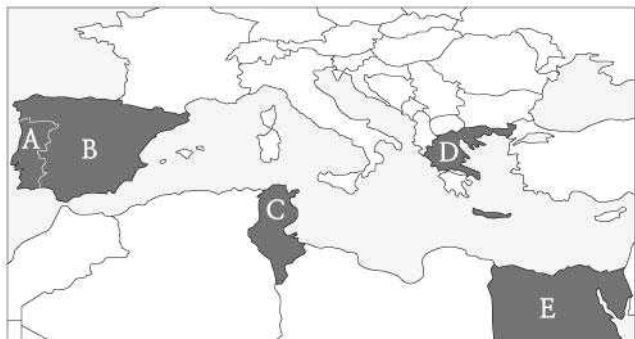
81 지도는 어느 종교가 전파된 경로를 보여준다. 이에 대한 탐구 내용으로 적절하지 않은 것은? 07-06-03



- ① 탈라스의 위치를 확인하고 전투의 배경을 조사한다.
- ② 쿠산 왕조의 영역을 표시하고 연대표를 작성한다.
- ③ 원강 석굴의 위치를 확인하고 조성 연대를 조사한다.
- ④ 간다라 지방의 위치를 확인하고 미술 양식을 조사한다.
- ⑤ 중국과 인도로 여행했던 신라 승려들의 행적을 조사한다.

82 자료는 어느 종교의 경전에 있는 구절들이다. 8세기 무렵, 이 종교의 세력권에 속했던 나라 아닌 것은? [3점] 07-06-06

- 실로 나는 하나님이라. 나 이외에는 신이 없도다.
- 하지(성지 순례)의 달은 매우 잘 알려져 있노라.
- 너희 선조들에게 (라마단 달의) 금식이 의무였던 것처럼, 믿는 너희에게도 (라마단 달의) 금식이 의무 사항이라.




- ① A ② B ③ C ④ D ⑤ E

83 다음 자료의 (가)에 들어갈 종교에 대한 설명으로 옳은 것은?

07-11-08

기원전 3세기 통일 왕조의 영역

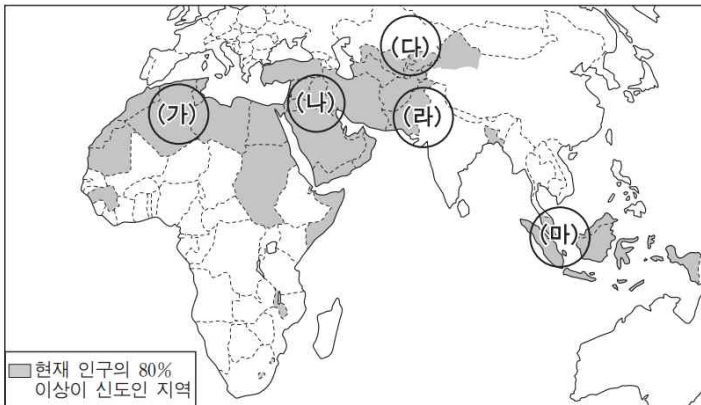


그는 칼링가 정복을 계기로 전쟁의 비참함을 깊이 느끼고 (가)을/를 국가 통치의 이념으로 삼았다. 구체적으로는 백성과 동물을 위한 의료 시설과 음료수, 숙박소를 마련했으며, 가로수가 있는 도로 등을 조성했다.

- ① 만민의 평등과 윤리적 실천을 통한 해탈을 주장했다.
- ② 천국의 존재와 최후의 심판을 믿었으며 불을 숭배했다.
- ③ 우상 숭배와 다신교를 거부하고 유일신 신앙을 추구했다.
- ④ 자신의 카스트에 맞는 의무를 충실히 수행할 것을 강조했다.
- ⑤ 도가 사상과 신선 사상을 결합한 것으로 중국에서 전래되었다.

84 지도는 어느 종교의 신도가 많은 지역을 표시한 것이다. 이 종교가 (가)~(마) 각 지역으로 확산된 계기로 옳지 않은 것은? [3점]

09-06-10



- ① (가) - 우마이야 왕조의 영토 확장
- ② (나) - 정통 칼리프 시대의 대외 팽창
- ③ (다) - 탈라스 전투의 승리
- ④ (라) - 아소카 왕의 정복 활동
- ⑤ (마) - 13세기 바닷길을 통한 상인들의 왕래





동서 교류 및 3길

[85~86] 다음 자료를 보고 물음에 답하시오.

01	(가) 길	07-11-05
<p>[여행 일기]</p> <p>2월 12일 맑음 중국 동남방에 있는 항저우는 부유하고 화려했다.</p> <p>3월 6일 맑음 이 길이 만들어지지 않았으면 고생이 많았을텐데 이렇게 편 안히 배를 타고 누워 가고, 배가 뒤집힐 걱정도 없으니 참으로 다행이다.</p> <p>4월 23일 흐리고 천둥칩 베이징에는 사람이 많고 물자가 풍성해 보이지만 쭈저우와 항저우에 미치지 못하는 것 같았고, 성 안에 필요한 물품은 모두 난징과 쭈저우, 항저우로부터 온 것이라고 한다.</p>		
<p>02 (나) 길</p> <p>① 롭에서 30일 거리의 사막을 건너면 대(大)칸에게 속한 사초우(둔황)에 이른다. 사막을 건너기 위해 일주일 쉬고 한 달 분의 음식을 챙겨야 했다. 온통 산지와 사막뿐이어서 아무 데서도 먹을 것을 찾을 수 없기 때문이다. 08-09-08</p> <p>② 차르찬 일대는 온통 사막이다. 코탄에서 펴까지, 펴에서 이곳 차르찬까지도 역시 사막이다. 대부분의 물은 쓰고 질도 나쁘지만 감미롭고 질 좋은 물도 몇 군데 있었다. 09-11-18</p>		
<p>03 (다)</p> <p>① 캄발록(대도)을 떠나 25마일 정도 가면 역참을 만나게 된다. 사신들은 모든 것이 갖추어진 역참에서 숙박할 수 있다. 대칸은 역참마다 400마리의 말을 대기시켰다. 대칸이 지배하는 모든 지방과 영역은 이런 도로와 역참으로 연결된다. 08-09-08</p> <p>② 지방으로 통하는 주요 도로에는 40~50km마다 역참이 배치되어 있었다. 각 역참에는 300~400마리의 말이 준비되어 있었다. 칸이 다스리는 모든 지방에 역참이 갖추어져 있어서 칸의 사신들은 어디를 가더라도 불편하지 않았다. 09-06-03</p>		
<p>04 (라) 길</p> <p>① 자이툰에서 대칸은 인도에서 들어오는 배들에 10%의 관세를 부과한다. 자이툰항을 출발해서 서남쪽으로 1,500마일을 가면 케이남 만(통킹만)에 이른다. ... (중략)... 이 만을 가로질러 항해하면 참바(참파)에 도착한다. 08-09-08</p> <p>② 자이툰*에 와 보니 마침 인도로 가는 여러 척의 정크선이 떠날 준비를 하고 있었다. 그 중에는 자와 군주의 정크선도 한 척 있었다. 우리는 이 배를 타고 가기로 하였다. 배는 순풍을 타고 항진하기 시작하였다.</p> <p style="text-align: right; font-size: small;">*자이툰 : 오늘날의 취안저우 09-11-18</p>		

05 (마)	09-06-03
<p>수도 수사와 소아시아의 사르데스를 잇는 이 도로는 폭이 10~23m, 길이가 2,400km나 되었다. 늘 준마가 대기하고 있기 때문에 이전에는 90일이 걸리던 길을 불과 7일 만에 달릴 수 있었다. 이를 바탕으로 전국을 20여 개의 주로 분할하고 주마다 총독을 두었다. 또한 총독과 행동을 감시하고 중앙과 연락을 담당하는 '왕의 눈'과 '왕의 귀'를 두었다.</p>	

06 (바) 길	09-11-18
<p>키르기즈 초원을 가로지른 다음 성 스테파누스 축일을 전후하여 마치 바다와 같이 광활한 평원에 들어섰다. 작은 구릉조차 보이지 않았다. 성 요한네스 축일에 이르러서야 가까스로 대간이 머무는 오르두에 도달할 수 있었다.</p>	

85 다음 선지에 해당하는 제시문을 쓰시오.

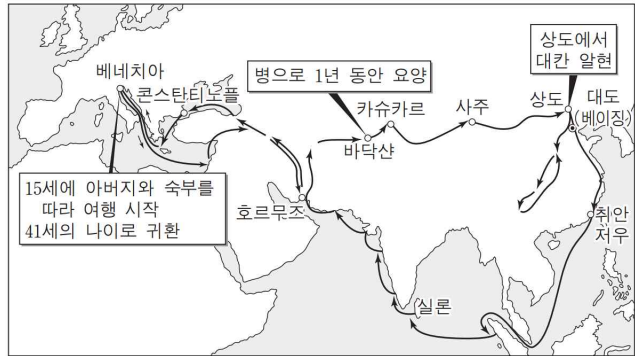
- ① 한나라 때에 본격적으로 개척되었다. 07-11-05
- ② 강남의 세금과 물자를 운반하는 통로로 이용되었다. 07-11-05
- ③ 나침반을 활용한 항해술이 발달하면서 이용이 확대되었다. 07-11-05
- ④ 불교와 제지술 등 동서 문물 교류가 이루어졌다. 08-09-08
- ⑤ 흉노의 서진과 몽골의 유럽 원정에 이용되었다. 07-11-05 08-09-08 09-11-18
- ⑥ 동남아시아에 힌두 문화가 전파되었다. 07-11-05 08-09-08
- ⑦ 동서 교통로 가운데 가장 먼저 이용되었다. 09-11-18

86 (가)~(바)에 대한 설명으로 옳은 것을 모두 고르면?

- ① (나)의 정비로 원대의 제국 통치와 육로 교통이 원활해졌다. 08-09-08
- ② (다)는 기원전부터 열렸고 이슬람 상인도 이 길을 이용하였다.
07-11-05 08-09-08
- ③ (마)는 아시리아가 서아시아 세계를 통일한 기반이었다. 09-06-03
- ④ (다)는 몽골이 제국을 관리하는 데 중요한 수단이었다. 09-06-03
- ⑤ (다), (마)는 문화 교류와 상업 발달에 기여하였다. 09-06-03
- ⑥ (다), (마)는 건설로 인해 민중 반란이 빈발하였다. 09-06-03
- ⑦ 이슬람 제국이 발전하면서 (라)를 통한 동서 교류가 더욱 활성화되었다.
09-11-08
- ⑧ (나)를 통해 불교가, (라)를 통해 이슬람교가 각각 중국에 전해졌다. 09-11-08

87 지도에 표시된 경로를 따라서 여행했던 사람이 건문하였을 내용으로 적절한 것은? [3점]

09-06-15



- ① 쿠빌라이 시대 몽골의 일본 침공
- ② 티무르 제국의 화려한 이슬람 문화
- ③ 무굴 제국의 건국과 인도 남부 점령
- ④ 원나라 말기의 혼란과 주원장의 대두
- ⑤ 마테오 리치 등 예수회 선교사의 활약

88 (가)~(다) 왕조 시기의 동서 교류에 대한 설명으로 옳은 것은? [3점]

12-09-11

(가) 화제 때에 반초는 감영을 파견하여 대진국에 사신으로 가게 하였다. 감영은 시리아에까지 이르렀으나 큰 바다를 보고서 단념하고 돌아왔다.

(나) 의정은 25년간 30여 나라를 찾아다니며 모든 성지를 답사하였다. 그는 경과 울, 룬 400여 부를 가지고 뤼양에 돌아왔다.

(다) 대덕 8년, 양추는 수도인 대도(大都)를 떠나 바다로 나섰다. 대덕 11년에는 호르무즈라 불리는 항구에 닿았다. 그곳의 특산물인 백마와 검은 개, 호박, 포도주 등을 사 가지고 돌아와 조정에 바쳤다.

- ① (가) - 중국의 제지술이 이슬람 세계에 전파되었다.
- ② (가) - 중국에 네스토리우스교와 마니교가 전래되었다.
- ③ (나) - 중국에 불교가 전래되었다.
- ④ (나) - 마테오 리치가 중국에서 선교 활동을 펼쳤다.
- ⑤ (다) - 이븐 바투타가 중국을 방문하였다.



